

Kastamonu İl Milli Eğitim Müdürlüğü
Ölçme Değerlendirme Merkezi

6. Sınıf Kazanım İzleme Uygulaması (16 Haziran 2021)

Adı ve Soyadı:

Öğrenci No:

Süre 120 dakikadır.

Kitapçıkta 10 Türkçe, 10 Matematik, 10 Fen Bilimleri, 5 Sosyal Bilgiler,
5 Din Kültürü ve Ahlak Bilgisi ve 5 İngilizce sorusu yer almaktadır.

Her 3 yanlış cevabınız 1 doğru cevabınızı eksiltecektir.

Başarılar Dileriz.

Türkçe 1

Yaşlanmanın birçok nedeni vardır. Bunlardan biri, dokuları yenilemek amacıyla bölünen hücrelerdeki kromozomları koruyan telomer adındaki yapıların kısalmasıdır. Çevresel faktörler, genetik özellikler ve beslenme alışkanlıkları da yaşlanma sürecini etkiler. Yaş ilerledikçe vücutta pek çok değişim gerçekleşir. Ciltte kırışma, saçlarda beyazlama, kulaklar ve burunda büyüme, boy kısalması ve görme yetisinin azalması aklı ilk gelenlerdir. Bu değişimlerin oluşma hızı herkeste aynı değildir.

Bu parçada "yaşlanma"yla ilgili aşağıdakilerden hangisine değnilmemiştir?

- A) Sebeplerinin neler olduğuna
- B) Her insanda farklı hızda gerçekleştiğine
- C) İnsanda ne tür değişikliklere yol açtığına
- D) Gerçekleşmesinde etkili olan çevresel faktörlere

Yalnızca bir şıkkı işaretleyin.

- A
- B
- C
- D

Türkçe 2

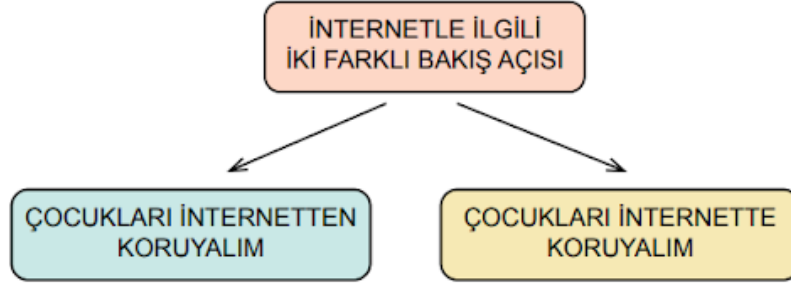
- Zarar görmemek, varlığını korumak, hasar görmemek
- Bir yere yaslanmak
- Bir işi bütün gücünü kullanarak yapmak

"Dayanmak" sözcüğü aşağıdaki cümlelerin hangisinde bu anlamlarından herhangi biriyle kullanılmamıştır?

- A) İki genç, küreklere kırarcasına dayandı.
- B) Gemimiz fırtınaya ne kadar dayanır?
- C) Köprünün geçmişi 18. yüzyıla dayanıyor.
- D) Başı dönünce duvara dayanıp öylece bekledi.

Yalnızca bir şıkkı işaretleyin.

- A
- B
- C
- D



Bu şemaya göre aşağıdaki metinlerden hangisinin bakış açısı diğerlerinden farklıdır?

- A) Geleneksel yöntemleri sıkıcı bulan yeni nesil, internetteki içerikleri bir hayli ilgi çekici buluyor olmalı ki kendilerini sanal dünyaya hapsediyorlar. Bu durumda bize düşen görev, onları internette uzak tutmak değil, internet konusunda bilinçlendirmek olmalıdır.
- B) İnternetin yalnızca var olan bilgiye erişim için değil, bilgi paylaşımı için de kullanıldığı unutulmamalı. Çocuk, iyi niyetle paylaşım yapmasına rağmen çocuğun hem kendisi hem de ailesi zarar görebiliyor. Çocukları bu konuda bilgilendirmek gerekir.
- C) Çocuğunuz, sosyal medyada hesap açmış ise giriş bilgileri sizde de olmalıdır. Bu bilgiler kullanılarak zaman zaman yapılacak kontroller çocuğun olumsuz durumlarla karşılaşmasını önlemeye yardımcı olacaktır.
- D) Çocukları sanal hayattan kurtarmak ve bu hayatın dışındaki oyunlara yönelmek mümkün. Bunun için ailelere büyük görev düşüyor. Ailelerin, çocuklarıyla zaman geçirmeleri ve eğitici oyunlar oynamaları onları sanal âlemin risklerinden uzak tutacaktır.

Yalnızca bir şıkkı işaretleyin.

- A
- B
- C
- D

Türkçe 4

Ağustos böceklerinin tanıdık sesi beni yıllar, belki de yüzyıllar öncesine götürmüştü. Göğün mavisini ilk kez hissettiğim o günü aslında hiç unutmamıştım. Adını bilmediğim o köylü, çatlak elleri ile dallarımı okşamış; minicik gövdeyi tutarak beni toprağa dikkatli bir şekilde yerleştirmişti.

Bu metinde kendisinden söz eden varlık aşağıdaki dizelerin hangisine konu edilmiştir?

- A) Durmadan çalışan, yurdu süsleyen
Yurda emek veren, bizi besleyen
Öpülüp başlara konmak isteyen
Hep Türk köylüsünün elleri bunlar
- B) Kuru yaprak amansız bir derde düşmüş
Başına rüzgârlar, karlar üşüşmüş
Derken kopuvermiş tuttuğu daldan
Savrulmuş, çatlamış ve hep üşümüş
- C) Kuşlar konsa dallarıma, yuva bile yapsalar
Böcekler, karıncalar yollansalar içime
Çürütseler içimi
Ballarım, sakızlarım olsa
- D) Bu sabah gökyüzü daha bir yorgun
Daha bir dumanlı
Daha bir derin
Şu anda, omzumdan tanıdık bir el
Tutup silkelese şöyle bir güzel

Yalnızca bir şıkkı işaretleyin.

- A
- B
- C
- D

Türkçe 5

Çoğul eki (-lar / -ler), eklendiği isme çokluk anlamı dışında "yaklaşıklık, abartma, aile (grup)" anlamları katar.

Buna göre çoğul eki aşağıdaki cümlelerin hangisine sözü edilen anlamlardan herhangi birini katmamıştır?

- A) Az ötede otuzlu yaşlarda bir adam, gazete okuyor.
- B) Akşamları arkadaşımınla sahilde gezintiye çıkarım.
- C) Ne zamandır alt komşumuz Nerimanlara gitmedik.
- D) Dünyalar kadar işi bir çırpıda halledivermiş.

Yalnızca bir şıkkı işaretleyin.

- A
- B
- C
- D

Türkçe 6

(I) Güney Atlantik kambur balinası nüfusu, aşırı avlanmadan 1900'lü yıllarda hızlı bir düşüş yaşamış. (II) Bu üzücü düşüş neyse ki türün koruma altına alınmasıyla durmuş ve bir süre sonra balina sayısı artmaya başlamış. (III) Öyle ki Uluslararası Balina Avcılığı Komisyonu tarafından yapılan yeni bir çalışmaya göre yaklaşık 25.000 Güney Atlantik kambur balinası artık kendi yaşam alanlarında yüzüyor. (IV) Araştırmacılar 2030 yılına gelindiğinde bu sayının daha da artacağını söylüyor.

Bu parçadaki numaralanmış cümlelerle ilgili aşağıdakilerden hangisi söylenemez?

- A) I. cümlede neden-sonuç ilişkisi vardır.
- B) II. cümlede karşıt iki durumdan söz edilmiştir.
- C) III. cümlede öznel anlatımdan yararlanılmıştır.
- D) IV. cümlede bir öngörüye yer verilmiştir.

Yalnızca bir şıkkı işaretleyin.

- A
- B
- C
- D

Türkçe 7

Deyimler Türkçemizin zenginliğidir. Duygu ve düşüncelerimizi deyimlerle daha kısa ve etkili bir biçimde anlatabiliriz. Örneğin "çok özlemek" anlamında - - - - "önem vermemek, beğenmemek" anlamında - - - -, "aşırı öfkelenmek" anlamında - - - - deyimlerini kullanırız.

Aşağıdakilerin hangisi bu metinde boş bırakılan yerlerden herhangi birine getirilemez?

- A) burun kıvrırmak
- B) burnundan solumak
- C) burnunda tütme
- D) burnunun dikine gitmek

Yalnızca bir şıkkı işaretleyin.

- A
- B
- C
- D

Türkçe 8

Aşağıda bazı gezegenlerin Güneş'e göre konumları, uydu sayıları ve Güneş'in etrafında kaç Dünya gününde döndükleri hakkında bilgi verilmiştir:

- Uranüs, Güneş'in etrafındaki turunu en uzun sürede tamamlamaktadır.
- Güneş'e en yakın gezegen, Güneş etrafındaki turunu diğerlerinden daha erken tamamlar.
- En çok uydusu olan gezegen, Güneş etrafındaki turunu Mars'tan ve Venüs'ten daha uzun sürede tamamlamaktadır.

Bu bilgiler aşağıdaki tablolardan hangisi ile örtüşür?

A)

Güneş'e Göre Konumu (Yakından Uzağa)	Uydu Sayısı	Güneş Etrafındaki Bir Turu (Gün)
Merkür	Yok	88
Venüs	Yok	224
Mars	2	687
Jüpiter	79	4333
Uranüs	27	30687

B)

Güneş'e Göre Konumu (Yakından Uzağa)	Uydu Sayısı	Güneş Etrafındaki Bir Turu (Gün)
Merkür	Yok	88
Venüs	Yok	224
Mars	2	4333
Jüpiter	79	687
Uranüs	27	30687

C)

Güneş'e Göre Konumu (Yakından Uzağa)	Uydu Sayısı	Güneş Etrafındaki Bir Turu (Gün)
Merkür	Yok	224
Venüs	Yok	88
Mars	2	687
Jüpiter	79	4333
Uranüs	27	30687

D)

Güneş'e Göre Konumu (Yakından Uzağa)	Uydu Sayısı	Güneş Etrafındaki Bir Turu (Gün)
Merkür	Yok	88
Venüs	Yok	224
Mars	2	687
Jüpiter	79	30687
Uranüs	27	4333

Yalnızca bir şıkkı işaretleyin.

- A
- B
- C
- D

Türkçe 9

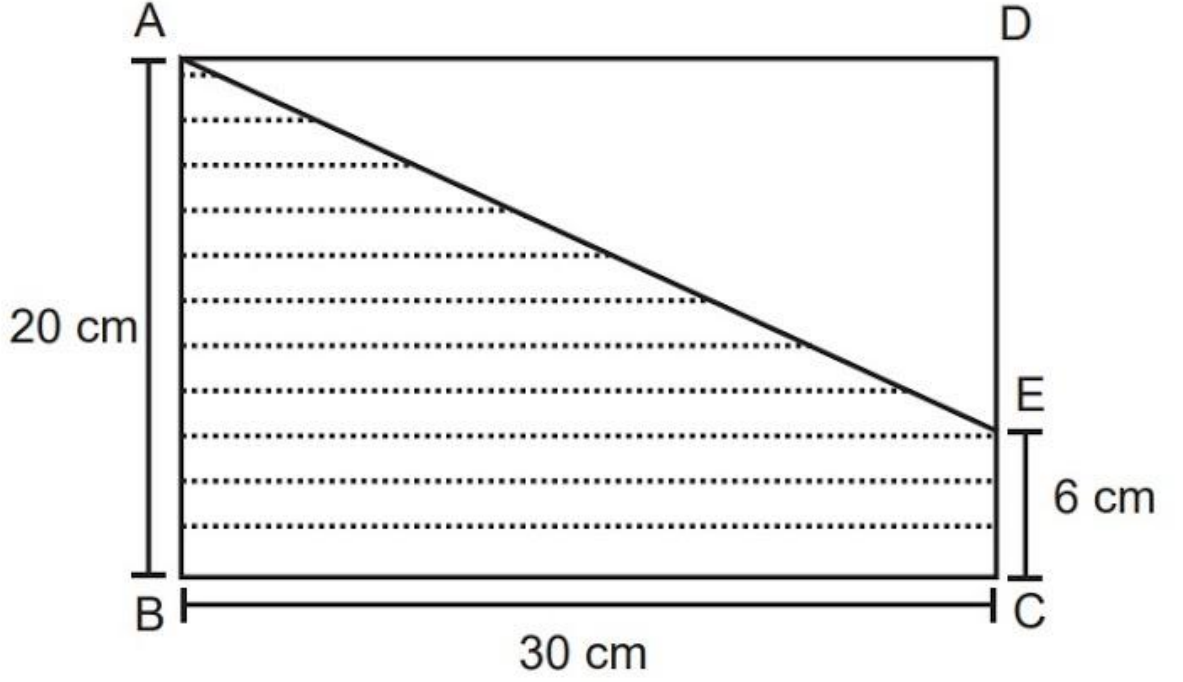
- İnsana ait özelliklerin insan dışı varlıklara aktarılmasıdır.
- Bir varlık ya da kavramın herhangi bir yönüyle başka bir varlık veya kavrama benzetilmesidir.

Aşağıdaki dizelerin hangisinde bu söz sanatlarının ikisine de örnek vardır?

- A) Dalgalandığın yerde ne korku ne keder
Gölgende bana da bana da yer ver
Sabah olmasın, günler doğmasın ne çıkar
Yurda ay yıldızın ışığı yeter
- B) Nazlı nazlı akar ırmak
Gök masmavi bulut apak
Dallar meyveye durmuş bak
Irmak gibi coşmaz mısın
- C) İmrenirim arıya
Petek petek balı var
Konduğu çiçeklerin
Pembesi var, alı var
- D) Orman memleketin süsü
Hem ufağı hem irisi
Her dalında bir kuş sesi
Ormandaki varlığa bak

Aşağıdaki cümlelerin hangisinde büyük harflerin yazımıyla ilgili bir yanlışlık yapılmıştır?

- A) Sivas'ın önemli değerlerinden biri de Kangal köpeğidir.
- B) 21 Ağustos'ta sabaha karşı dünyaya gelmişti.
- C) Dünya kültür mirasına Anadolu da büyük katkı sağlamıştır.
- D) Sizi yarın avukat Aykut Bey ile görüşürebilirim.



Yukarıda verilen şekilde ABCD bir dikdörtgendir.

Şekilde verilen bilgilere göre taralı bölgenin alanı kaç santimetrekaredir?

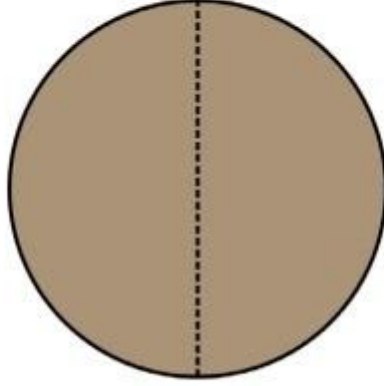
A) 600

B) 420


C) 390

D) 180

Aşağıda bir yemek masasının üstten görünümünün iki farklı durumu gösterilmiştir.



1.Durum



2.Durum

Yemek masası 1.durumdaki gibi dairesel bir şekil-
deyken ortadan ikiye ayrılıp içinden kare şeklinde
bir parça çıkıyor ve eş parçaların arasına yerleşerek
2.durumdaki şekle dönüşüyor.

**Yemek masasının çevresi 1.durumda 6 m oldu-
ğuna göre 2.durumda kaç metre olur?**

($\pi = 3$ alınız.)

- A) 8 B) 10 C) 12 D) 14



4^4 ml

1. şişe



7^3 ml

2. şişe



3^5 ml

3. şişe

Yukarıda dışına taşmadan en fazla 400 ml kolonya alabilen özdeş şişelerin içinde kaç ml kolonya olduğu gösterilmiştir.

1. şişede bulunan kolonyanın bir kısmı 2. şişeye bir kısmı da 3. şişeye aktarılarak bu şişeler taşmadan tamamen dolduruluyor.



1. şişe



2. şişe



3. şişe


Buna göre son durumda 1. şişede kaç ml kolonya kalmıştır?

A) 214

B) 147

C) 81

D) 42



Halil Bey para kasasının dört haneli şifresini deęiřtirmek istiyor. Fakat şifre deęiřtirme bölümünün arızalandığını ve binler basamağının 6, onlar basamağının 4 rakamına sabitlendiğini görüyor.

Halil Bey yeni şifrenin 2'ye, 5'e ve 9'a tam bölünmesini istediğine göre yüzler basamağına hangi rakamı yazmalıdır?

A) 6

B) 7

C) 8

D) 9



Matematik 5



Sayı doğrusunda 4 sayısı -7 ve Y sayılarının tam ortasındadır.

Verilen bilgilere göre Y kaçtır?

- A) +15 B) +11 C) +7 D) -11

Matematik 6

Aşağıda uzunlukları 60 santimetre olan dikdörtgen şeklinde kırmızı ve mavi renkli iki karton gösterilmiştir.



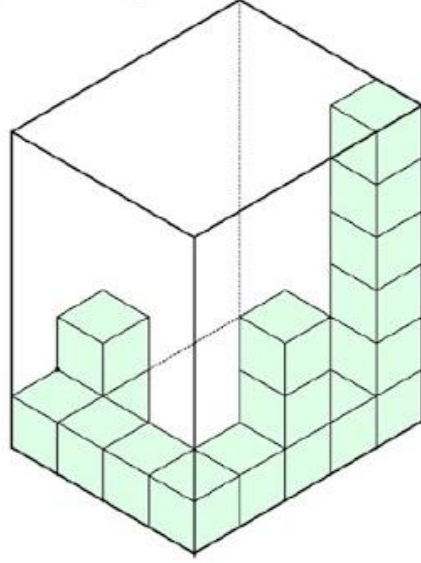
Kırmızı karton 4 kez, mavi karton 3 kez kesilerek her bir karton kendi arasında eşit uzunluktaki parçalara ayrılıyor. Bu parçalar bir kırmızı bir mavi olacak şekilde 3 santimetrelik kısmı üst üste gelecek şekilde yapıştırılıyor.



Buna göre yapıştırma sonucu oluşturulan şeklin boyu kaç santimetredir?

- A) 64 B) 72 C) 84 D) 96

Aşağıda verilen dikdörtgenler prizmasının içerisine birimküpler yerleştirilmiştir.



Buna göre bu prizmanın hiç boşluk kalmayacak şekilde doldurulabilmesi için kaç tane daha birimküpe daha ihtiyaç vardır?

- A) 101 B) 103 C) 108 D) 120

Matematik 8

Depolama kapasitesi dışında birbirine özdeş olan telefonları kullanan altı arkadaşın telefonlarının, toplam depolama alanı ile kullanılan alan bilgileri aşağıda verilmiştir.

Kişi	KULLANILAN ALAN (GB)	DEPOLAMA KAPASİTESİ (GB)
ALİ	7	8
BERK	8	12
CEYHUN	10	16
DENİZ	17	20
EFE	18	24
GAMZE	23	32

Cep telefonunun verimli çalışabilmesi için toplam depolama kapasitesinin $\frac{3}{4}$ 'ünden fazla alan kullanılmamalıdır.

Buna göre hangi iki arkadaşın telefonlarının verimli çalışmadığı söylenebilir?

- A) ALİ - EFE B) BERK - DENİZ C) ALİ-DENİZ D) GAMZE - CEYHUN

Matematik 9

Ceren, kısa kenarının metre cinsinden uzunluğu x metre, uzun kenarının metre cinsinden uzunluğu kısa kenarının metre cinsinden uzunluğunun 2 katının 1 eksiğine eşit olan dikdörtgen şeklindeki bahçesinin etrafını tel ile çevirecektir.



Buna göre $x = 6$ için Ceren'in kaç metre tele ihtiyacı vardır?

A) 12

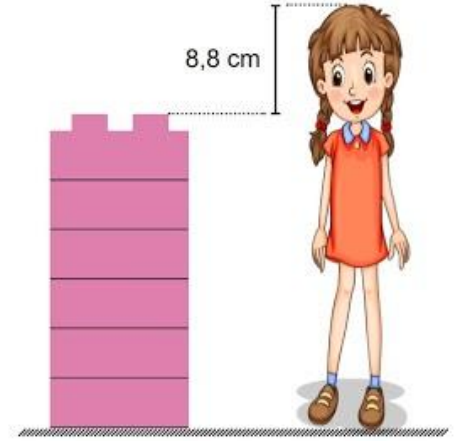
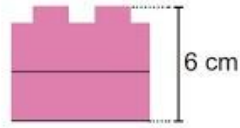
B) 34

C) 36

D) 62

Matematik 10

Yasemin legoları şekildeki gibi üst üste ekleyerek oyuncak bebeğinin yanına koymuştur.



Yasemin'in oyuncak bebeğinin boyu kaç santimetredir?

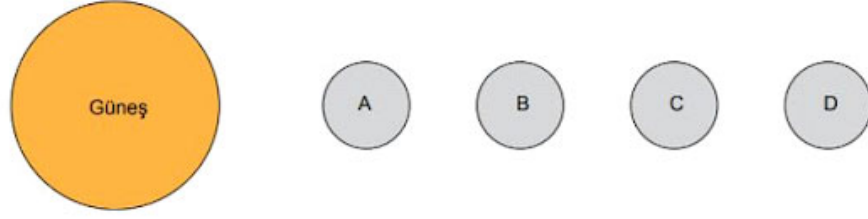
A) 17 cm

B) 17,2 cm

C) 26 cm

D) 26,2 cm

Fen Bilimleri 1



Güneş sistemine ait ve Güneş'e uzaklıklarına göre sıralanmış A, B, C ve D gezegenleri hakkında şu bilgiler veriliyor:

- A gezegeninde yaşam yoktur.
- B gezegeninden hemen sonra asteroit kuşağı başlar.
- C gezegeni Güneş sisteminin en büyük üçüncü gezegenidir.

Buna göre,

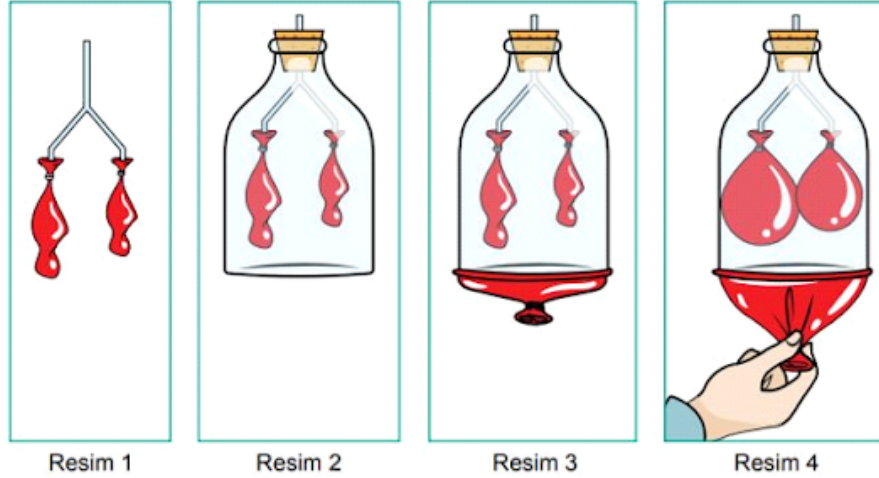
- I. A gezegeni Merkür'dür.
- II. B gezegeni Mars'tır.
- III. D gezegeni Neptün'dür.

bilgilerinden hangileri kesinlikle doğrudur?

- A) Yalnız II. B) Yalnız III. C) II ve III. D) I, II ve III.

Fen Bilimleri 2

Solunum sistemi konusu ile ilgili balon, pipet, pet şişe ve tıpa kullanılarak aşağıdaki düzenek hazırlanıyor.

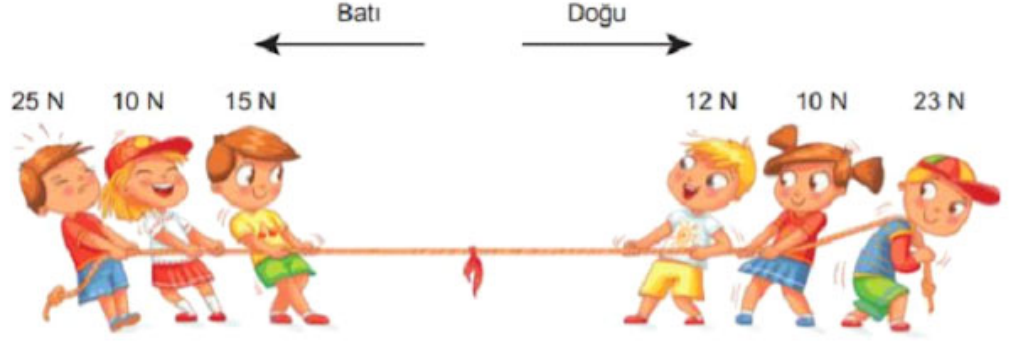


Düzenekte pipetler soluk borusu ve bronşları, pet şişe göğüs boşluğunu, pipetlere bağlı balonlar akciğerleri ve pet şişenin alt tarafına gerilen balon ise diyaframı temsil etmektedir.

Buna göre düzenekle ilgili verilen bilgilerden hangisi yanlıştır?

- A) Sol akciğer sağ akciğerden daha küçük olduğundan akciğeri temsil eden balonların farklı büyüklüklerde seçilmesi doğru bir gösterim olmuştur.
- B) Resim 3 soluk verme olayını gösterdiğinden diyafram kasını temsil eden balonun kubbe şeklinde durması gereken düz bir şekilde bağlanmasıyla hata yapılmıştır.
- C) Resim 4 soluk alma olayını gösterdiğinden seçilen pet şişe sebebiyle göğüs boşluğunun hacmi artmamış ve hata yapılmıştır.
- D) Resim 4 soluk alma olayını gösterdiğinden diyafram kasını temsil eden balonun kubbe şeklinde aşağı inmesi doğru bir gösterim olmuştur.

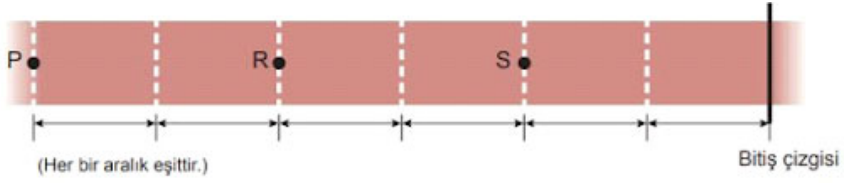
Fen Bilimleri 3



Halat yarışı yapan öğrencilerle ilgili aşağıda verilen bilgilerden hangisi yanlıştır?

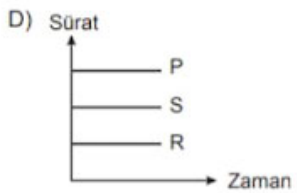
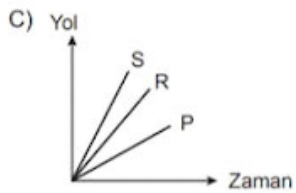
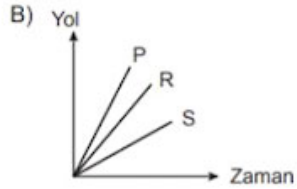
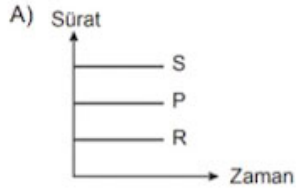
- A) Bileşke kuvvet 5 N'dır.
- B) Halat yarışını sol taraftaki grup kazanır.
- C) Dengeleyici kuvvet doğu yönünde 5 N'dır.
- D) Halat dengelenmiş kuvvetlerin etkisi altındadır.

Fen Bilimleri 4



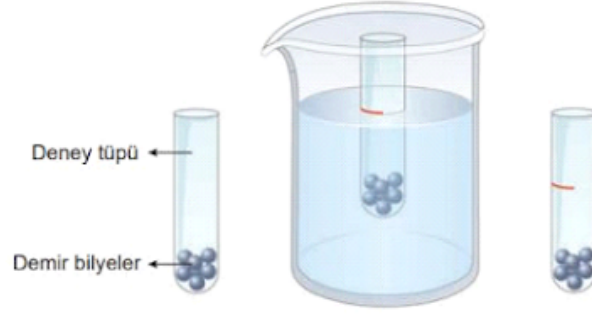
Sabit süratle hareket eden P, R ve S koşucularının pistte gösterilen konumlarından bitiş çizgisine ulaşma süreleri arasındaki ilişki $t_P > t_R = t_S$ şeklindedir.

Buna göre koşucularla ilgili aşağıda verilen grafiklerden hangisi doğru olabilir?




Fen Bilimleri 5

Farklı sıvıların yoğunluklarını kıyaslamak için şekildeki deney tasarlanıyor. Deney tüpü sıvı dolu bir behere konuluyor ve dengeye geldiğinde sıvı hizası işaretleniyor.

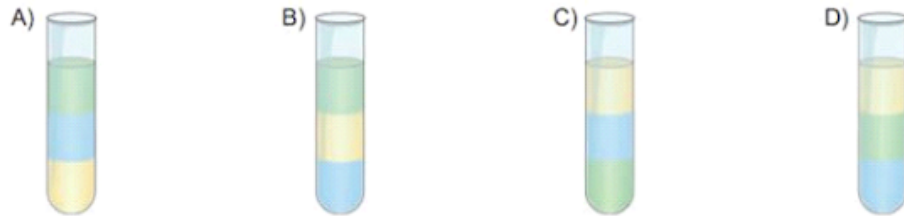


Aynı deney tüpü iki farklı sıvıya konulduğunda ise aşağıdaki gibi dengeleniyor.



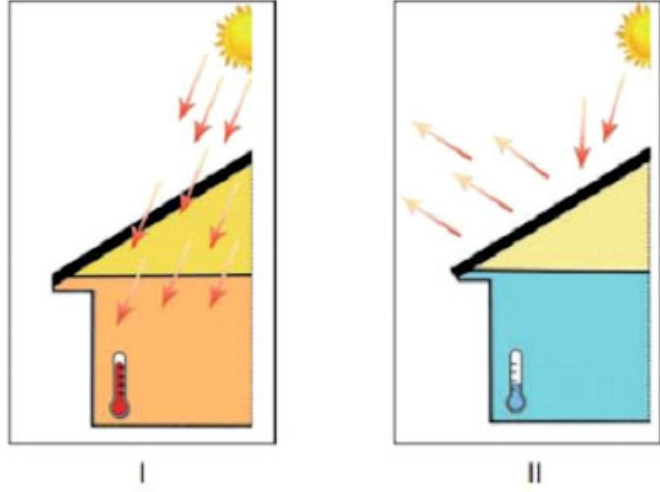
Deneyin sonunda birbirini içinde çözünmediği bilinen bu üç sıvıdan aynı miktarlarda alınarak bir deney tüpüne konuluyor.

Buna göre sıvıların deney tüpündeki görünüşleri hangi seçenekte doğru verilmiştir?



Fen Bilimleri 6

Aşağıda ısı yalıtımı ile ilgili çeşitli görseller verilmiştir.



Verilen görsellere göre aşağıdakilerden hangisi yanlıştır?

- A) I. binada ısı yalıtımı yapılmamıştır.
- B) II. binada kışın daha az yakıt tüketilir.
- C) I. bina yaz aylarında daha az ısınır.
- D) II. binada ısıyı az ileten malzemeler kullanılmıştır.

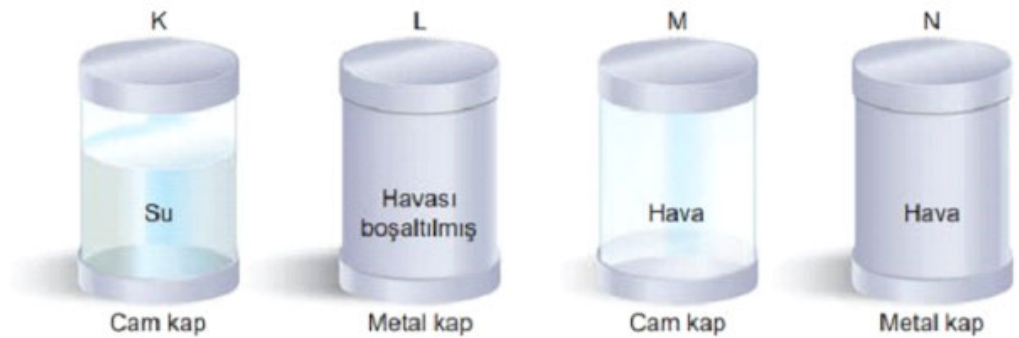
Fen Bilimleri 7

Ses ve özellikleri ünitesiyle ilgili yapılacak araştırma için hipotezler belirleniyor.

Hipotez 1: Sesin yayıldığı ortam değişirse ses farklı işitilir.

Hipotez 2: Sesin yayılabilmesi için maddesel ortama ihtiyaç vardır.

Bu hipotezleri test etmek için aşağıdaki kaplar kullanılarak uygun deney düzenekleri oluşturulacaktır.



Buna göre,

- I. K ve M kaplarına metal kaşıkla eşit kuvvetle vurarak hipotez 1 test edilebilir.
- II. K ve M kaplarına konulan çalar saatler çaldığında hipotez 1 test edilebilir.
- III. L ve N kaplarına metal kaşıkla eşit kuvvetle vurarak hipotez 2 test edilebilir.
- IV. L ve N kaplarına konulan çalar saatler çaldığında hipotez 2 test edilebilir.

Çıkarımlarından hangileri doğrudur?

- A) I ve III.
- B) II ve IV.
- C) I, II ve III.
- D) II, III ve IV.

Fen Bilimleri 8

Koku alma ile tat alma organlarımız birlikte bir uyum içinde çalışır. Kokusunu iyi alamadığımız besinlerin tadını da iyi alamayız.

Bu bilgiyi test etmek isteyen bir öğrenci aşağıda aşamaları verilen deneyi yaparak sonuçlarını tabloya kaydediyor.

1. aşama: Muz, elma, mandalina ve armudu gözlerinizi kapalı, burnunuzun açık bir şekilde tadınız ve not ediniz.
2. aşama: Aynı meyveleri gözlerinizi ve burnunuz kapalı olarak tadınız ve not ediniz.

	Muz	Elma	Mandalina	Armut
1. aşama	+	+	+	+
2. aşama	+	-	+	-

(Tanınan meyveler (+), tanınmayanlar (-) ile işaretlenmiştir.)

Yapılan deney ile ilgili,

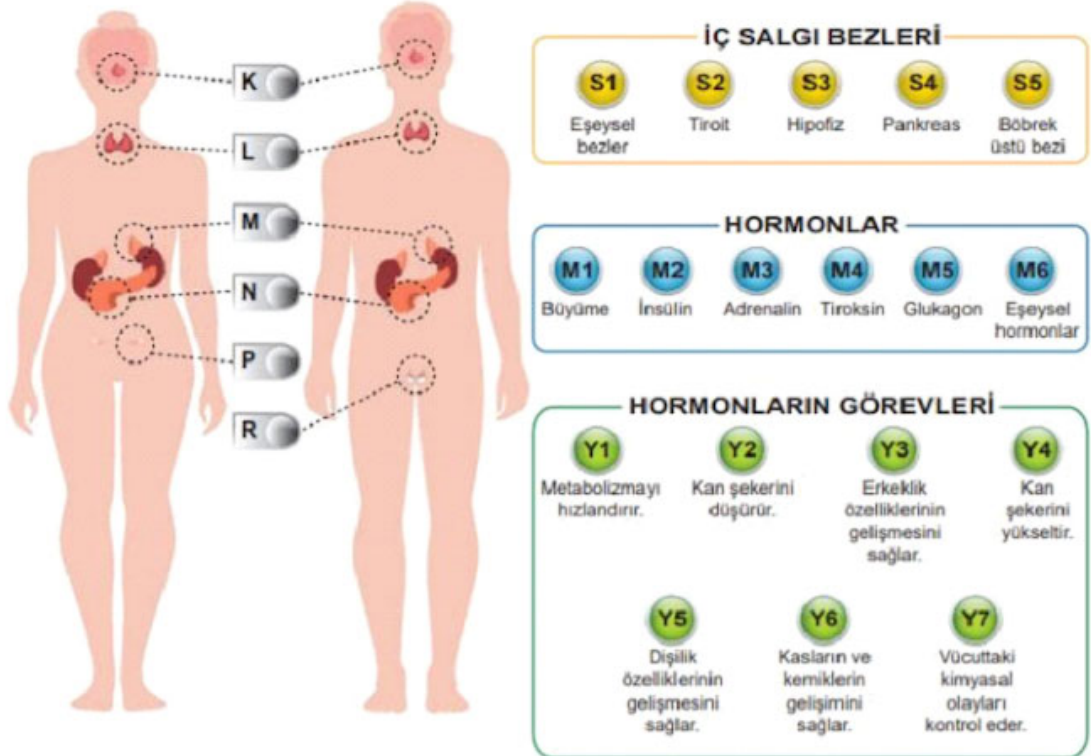
- I. Meyvelerin kokusu haricinde değişkenler etkili olmuş deney amacına ulaşamamıştır.
- II. Koku duyusunun tat alma duyusu üzerinde etkili olduğunu ispatlamıştır.
- III. Deneyde kullandığı tüm meyvelerin kokularını almadan tatlarını bilmıştır.

çıkarımlarından hangileri doğrudur?

- A) Yalnız I. B) Yalnız II. C) I ve II. D) II ve III.

Fen Bilimleri 9

Bir öğrenci iç salgı bezleri ve görevleri ile ilgili bir proje hazırlıyor.



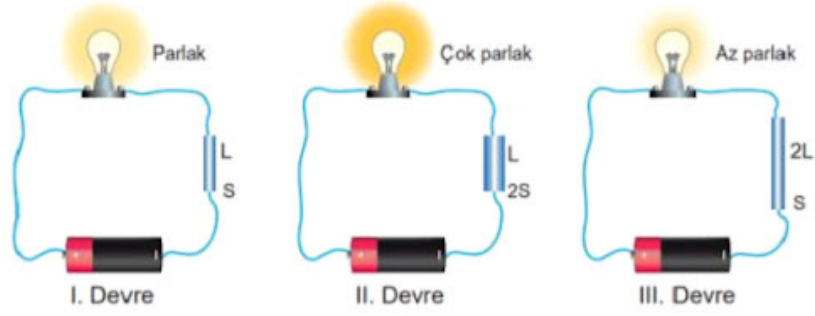
Proje çalışması ile ilgili aşağıdaki bilgileri veriyor.

- Her renkten bir tane olmak şartıyla butonlara sarı, mavi, yeşil sırasıyla basılır.
- İç salgı bezi, salgıladığı hormon ve hormonun görevini belirten butonlara doğru bir şekilde basılınca ilgili paneldeki led lamba yanar.

Buna göre basılan butonlar ve paneldeki led lambanın durumuyla ilgili aşağıdakilerden hangisi yanlıştır?

- A) B) C) D)

Özdeş ampul ve pillerle kurulmuş devrelerde farklı kalınlıkta ve uzunlukta iletkenler kullanılmış ve ampul parlaklıklarının farklı olduğu gözlemlenmiştir.



Bu gözlemlere göre aşağıdaki ifadelerden hangisi yanlıştır?

- A) Telin kalınlığı azaldıkça ampul parlaklığı azalır.
- B) Telin boyu azaldıkça ampul parlaklığı artar.
- C) Ampul parlaklığı ile telin kesiti arasındaki ilişkiyi test etmek için II ve III. devreler seçilmelidir.
- D) Ampul parlaklığı ile telin boyu arasındaki ilişkiyi test etmek için I ve III. devreler seçilmelidir.

Sosyal 1

1. Bireyler doğar, büyür ve gelişirler. Yaşamları boyunca sahip oldukları sosyal rolleri bir anda edinmezler. Yaşam döngüsü içinde bireylerin sahip oldukları sosyal roller de değişime uğrar.

Aşağıda verilen durumlardan hangisi sosyal rollerin zaman içerisinde değişime uğramasına örnek gösterilebilir?

- A) Yabancı dil kursuna giderek İngilizce öğrenmek
- B) Çok çalışarak matematik notunu yükseltmek
- C) Üniversiteyi bitirip öğretmen olarak atanmak
- D) Yaz tatili için yurt yurt dışına çıkmak

B

C

D

Sosyal 2

2. Karahanlılar Türkçeyi resmi dil olarak kabul ettiler. Türk-İslam tarihindeki ilk medrese, ilk vakıf ve ilk posta teşkilatını kurdular. Ribat adı verilen kervansaraylar inşa ettiler.

Buna göre Karahanlılarla ilgili aşağıdakilerden hangisine ulaşamaz?

- A) Milliyetçi bir devlet özelliği taşımaktadırlar
- B) Konargöçer bir yaşam tarzı benimsemişlerdir
- C) Ticareti geliştirmek için çalışmalar yapmışlardır
- D) Eğitime ve hayır işlerine önem vermişlerdir

Sosyal 3

3. Ülkemiz, Ekvator'un kuzeyinde yer aldığı için güneyden kuzeye doğru gidildikçe güneş ışınlarının gelme açısı küçülürken sıcaklık genel olarak azalır.

Buna göre;

- I. Akdeniz'den Karadeniz'e doğru gidildikçe deniz suyu sıcaklığı azalmaktadır
- II. Karadeniz Bölgesinde dağların kuzey yamaçları daha sıcaktır
- III. Akdeniz Bölgesinde güneşli gün sayısı, Karadeniz Bölgesine göre daha fazladır

yargılarından hangileri doğrudur?

- A) I ve II B) II ve III C) I ve III D) I,II,III

Sosyal 4

4. Psikoloji sosyal bilimlerin dallarından biridir. İnsan davranışlarını ve insanın zihinsel süreçlerini bilimsel yöntemler kullanarak inceler. Psikoloji bilimi, yaptığı araştırma ve çalışmalarla insan hayatına büyük katkılar sağlamaktadır.

Buna göre;

- I. Toplumsal olayların oluşumunu ve gelişimini inceleyen, toplumların yaşam biçimlerini öğrenmemizi sağlayan bilim dalı psikolojidir
- II. Psikoloji bilimi sayesinde insanların ergenlik dönemlerindeki sorunlarının neler olduğu tespit edilebilir
- III. Psikoloji, bireylerin anne karnında oluşumundan ölümüne kadar geçen süreçteki gelişimini araştırıp inceler.

yargılarından hangilerine ulaşılabilir?

- A) I,II,III B) I ve III C) I ve II D) II ve III

Sosyal 5

5. Toplumsal yaşamda iş, meslek edinme, yönetme gibi alanlarda kadınlara, çocuklara, engellilere ayrıcalık tanımaya pozitif ayrımcılık denir.

Buna göre aşağıdakilerden hangisi kadınlara yönelik pozitif ayrımcılık uygulamalarına örnek gösterilemez?

- A) Mirastan daha fazla pay verilmesi
- B) Erkeklerden önce emekli olma hakkı tanınması
- C) Doğum öncesi ve sonrası için izin verilmesi
- D) İşe alımlarda öncelik tanınması

DKAB 1

“Kitap, yalnız bizden önceki iki topluluğa indirildi. ‘Biz onların okumalarından habersiz idik.’ demeyesiniz, yahut ‘Eğer bize kitap indirilseydi, biz onlardan daha çok doğru yolda olurduk.’ demeyesiniz diye bu Kur’an’ı indirdik. İşte size Rabb’inizden açıkça bir delil, bir hidayet ve bir rahmet geldi...”

(En’âm suresi, 156 ve 157. ayetler)

Bu ayetlerde Kur’an-ı Kerim ile ilgili aşağıdakilerden hangisine değinilmemiştir?

- A) Yol gösterici olduğuna
- B) Allah tarafından gönderildiğine
- C) Diğer ilahi kitapları tasdik ettiğine
- D) Değişmeden günümüze ulaştığına

B

C

D

DKAB 2

Hız. Peygamber “Birinizin kapısı önünde günde beş defa yıkandığı bir nehir olsa, o kimsede kir namına bir şeyin kalabileceğini düşünebilir misiniz?” diye sorar. Sahabe: “Hiç kir kalmaz.” şeklinde cevap verir. Bunun üzerine Hız. Peygamber, “İşte beş vakit namaz da böyledir, Allah bu namazlarla günahları yok eder.”

Bu hadisin mesajını destekleyen ayet aşağıdakilerden hangisidir?

- A) “Namazı kılın, zekâtı verin. Rükû edenlerle birlikte siz de rükû edin.” (Bakara suresi, 43.ayet)
- B) “Gündüzün iki tarafında ve gecenin gündüze yakın vakitlerinde namaz kıl. Çünkü iyilikler kötülükleri giderir...” (Hûd suresi, 114.ayet)
- C) “Şüphesiz iman edip salih amel işleyen, namazı dosdoğru kılan ve zekâtı verenlerin mükâfatları Rableri katındadır...” (Bakara suresi, 277.ayet)
- D) “Sabrederek ve namaz kılarak (Allah’tan) yardım dileyin. Şüphesiz namaz, Allah’a derinden saygı duyanlardan başkasına ağır gelir.” (Bakara suresi, 45.ayet)

DKAB 3

- K r ile yatan ŐaŐı kalkar.
-  z m  z me baka baka kararır.
- Kır atın yanında duran ya huyundan ya suyundan

Bu atas zleri zararlı alışkanlıklara başlama nedenlerinden hangisiyle ilgilidir?

- A) Merak B) Bilgisizlik C) Eđitimsizlik D)  evrenin etkisi

DKAB 4

- Ensar ve Muhacirin kardeŐ ilan edilmesi
- Evs ve Hazre  kabilelerinin barıŐtırılması
- Yahudiler ile Medine S zleŐmesi'nin imzalanması
- M Őrikler ile Hudeybiye AntlaŐması'nın imzalanması

Hicretten sonra ger ekleŐen bu faaliyetlerin temel amacı aŐađıdakilerden hangisidir?

- A) Toplumsal barıŐın sađlanması
B) Ticaretin canlandırılması
C) Siyasi birliđin kurulması
D) Sınıf farklılıklarının sonlandırılması

DKAB 5

Hiz. Peygamber Veda hutbesinde: "Rabb'iniz olan Allah'tan sakının, ona kulluk edin. BeŐ vakit namazınızı kılın. Ramazan ayında oru  tutun, hac ibadetini yerine getirin, mallarınızın zek tını g n l hoŐluđuyla verin. Y neticilerinize, Allah'ın kitabına uydukları s rece itaat edin ve b ylece Rabb'inizin cennetine girin. Benden sonra hi bir peygamber gelmeyecektir. Ey m minler! Size iki emanet bırakıyorum. Onlara sımsıkı sarıldıđınız takdirde bir daha asla yolunuzu ŐaŐırmazsınız. Bunlar Allah'ın kitabı Kur'an ve benim s nnetimdir." buyurmuŐtur.

Bu ifadelerde aŐađıdakilerden hangisine deđinilmemiŐtir?

- A) İslam'daki temel ibadetlerin neler olduđuna
B) Hiz. Muhammed'in (sav.) son peygamber olduđuna
C) İnsanların yaŐam haklarına saygılı olunması gerektiđine
D) Cennete gidebilmek i in Kur'an ve s nnete uyulması gerektiđine



Hi! My name is Luke. I wake up at 8 o'clock every morning. I get dressed and have breakfast at 8:30 a.m. My classes start at 9:00 a.m. I have lunch at 12:30 p.m. My school finishes at 3:50 p.m. After school, I take care of my dog. I finish my homework and help my dad until 7:30 p.m. and I go to bed at 9:30 p.m.

According to the text, Luke - - - .

- A) has breakfast at nine a.m.
- B) helps his father until half past seven
- C) goes to school after ten in the morning
- D) does his homework after he helps his dad

İngilizce 2



Which of the following is CORRECT according to the picture above?

- A) Sue is taller than Gloria.
- B) Joey is fatter than Scott.
- C) Sue is shorter than Gloria.
- D) Scott is slimmer than Joey.

İngilizce 3

Read the text, look at the pictures and complete the sentence.

The visuals below show what kind of activities Mike did on his holiday.



Mike - - - .

Which of the following does NOT complete the sentence above?

- A) visited ancient places
- B) swam in the sea
- C) went camping
- D) rode a bike

İngilizce 4

Read the text and answer the question.

This is Jack's room. He always checks the calendar on the wall. He sometimes plays tennis and his racket is under the calendar. His favourite toy is a lion and he keeps it near the books on the shelf. He writes his diary before he goes to bed so, he leaves it on the bed. He sets his alarm clock every day and puts it on the drawer. Music is his best activity and he leaves the guitar next to the door.

Which of the following shows Jack's room?

A)



B)



C)



D)



Read the text, look at the visual and answer the question.

Jill and some of his friends wrote some suggestions about saving the world on the board. Their teacher asked them to find some pictures related to their ideas and prepare a poster. Here are their suggestions and poster:

Jill : We shouldn't drop litters on the ground.

Tom : We should turn off the taps when we don't use them.

Mary : We shouldn't plug electrical devices at night.

Jack : We should use public transportation instead of private cars.

Sue : We should separate our trash by type for recycling.



Who didn't add any picture to the poster according to their suggestions?

A) Jill

B) Tom

C) Mary

D) Jack

6.SINIF CEV	TÜRKÇE	MATEMATİK	FEN	SOSYAL	DİN	İNGİLİZCE
1	D	C	C	C	D	B
2	C	B	D	B	B	C
3	D	D	D	C	D	B
4	C	C	B	D	A	C
5	B	A	C	A	C	D
6	C	D	C			
7	D	B	B			
8	A	C	A			
9	B	B	B			
10	D	C	C			