

Kastamonu İl Milli Eğitim Müdürlüğü
Ölçme Değerlendirme Merkezi

5. Sınıf Kazanım İzleme Uygulaması (15 Haziran 2021)

Adı ve Soyadı:

Öğrenci No:

Süre 120 dakikadır.

Kitapçıkta 10 Türkçe, 10 Matematik, 10 Fen Bilimleri, 5 Sosyal Bilgiler, 5 Din Kültürü ve Ahlak Bilgisi ve 5 İngilizce sorusu yer almaktadır. Her 3 yanlış cevabınız 1 doğru cevabınızı eksiltecektir.

Başarılar Dileriz.

Türkçe

Türkçe 1

- Bir şeyin yönünü değiştirmek
- Yönetmek, idare etmek
- Bir durumdan başka duruma getirmek, dönüştürmek

"Çevirmek" sözcüğü aşağıdaki cümlelerin hangisinde bu anlamlarından herhangi biriyle kullanılmamıştır?

- A) Yaşı küçük olmasına rağmen bütün evi o çeviriyor.
B) Sahildeki evlerini butik otele çevirdiler.
C) Surlar, neredeyse bütün adayı çeviriyor.
D) Soruları başını çevirmeden cevapladı.

Yalnızca bir şıkkı işaretleyin.

- A
 B
 C
 D

Türkçe 2

Kök, bir kelimenin anlamlı en küçük parçasıdır. Ek ise sözcüklerin sonuna gelerek yeni sözcükler türeten veya sözcüklerin cümle içinde görev almasını sağlayan ses birlikleridir.

Aşağıdaki tabloda, verilen eklerin köklere eklenmesi sonucunda yeni bir kelime türeyip türemediğiyle ilgili bir işaretleme yapılmıştır.

	Kök	Ek	Kök+Ek	Yeni Kelime Türedi	Yeni Kelime Türemedi
I.	gör-	-üntü	görüntü	✓	
II.	köy	-den	köyden		✓
III.	su	-luk	suluk		✓
IV.	defter	-im	defterim	✓	

Buna göre tabloda numaralanmış bölümlerden hangileriyle ilgili işaretlemeye yanlışlık yapılmıştır?

- A) I ve II. B) I ve IV. C) II ve III. D) III ve IV.

Yalnızca bir şıkkı işaretleyin.

- A
 B
 C
 D

Türkçe 3

On iki yıl gibi uzun bir aradan sonra ikinci şiir kitabım yayına hazır. - - - - "Türk şiiri bensiz de idare edebilir." diye düşünüyordum - - - - yayımladığım şiirler, tahmin ettiğimden fazla ilgi gördü. - - - - yeni bir şiir kitabı çıkarmamı ısrarla isteyen okurlar oldu. Bu ilgiye layık olmaya çalışıyorum.

Bu parçada boş bırakılan yerlere düşüncenin akışına göre sırasıyla aşağıdakilerin hangisinde verilenler getirilmelidir?

- A) Aslında - çünkü - Üstelik
B) Özellikle - ne var ki - Hatta
C) Doğrusu - fakat - Dahası
D) Herhâlde - ancak - Başka bir deyişle

Yalnızca bir şıkkı işaretleyin.

- A
 B
 C
 D

Türkçe 4

Hamur için gerekli malzemeleri bir kâseye koyarak yoğurun. Bu hamurdan yumruk büyüklüğünde toplar yapın. Yağladığınız fırın tepsinde bu topları yerleştirin ve üzerini nemli bezle örterek bir saat dinlendirin. Önceden ısıtılmış fırında 190 derecede bunları pişirin.

Bu metnin görsel anlatımı aşağıdakilerin hangisinde sırasıyla verilmiştir?

- A)    
- B)    
- C)    
- D)    

Yalnızca bir şıkkı işaretleyin.

- A
- B
- C
- D

Türkçe 5

Dizelerde kullanılan hayalî unsurlara "düşsel öge" denir.

Buna göre aşağıdaki dizelerin hangisinde düşsel ögelere yer verilmemiştir?

- A) Martılar konuyor omuzlarıma
Gözlerin İstanbul oluyor birden
- B) Karlı dağlar ardından titrek bir ay gülünce
Çoruh zincir içinde bir esir gibi ağlar
- C) Bir çakıl taşı ısınır içimde
Bir kuş gelir, yüreğimin ucuna konar
- D) Şükrederek kalktığım sofralarımda
Ya soğan ekmek olur yahut bulamaç

Yalnızca bir şıkkı işaretleyin.

- A
- B
- C
- D

Türkçe 6

Aşağıdaki cümlelerin hangisinde kişisel düşünceye yer verilmiştir?

- A) İletişim araçlarının davranışlar üzerindeki etkisi uzun süredir araştırılıyor.
- B) Genç yazar, son kitabında şehir hayatında karşılaşılan zorlukları anlatmış.
- C) Kıyafetin kullanışlı olması değil, rengi önemlidir.
- D) Filmde, çekimlerin yapıldığı kasabada yaşayan kişilere rol verilmiş.

Yalnızca bir şıkkı işaretleyin.

- A
- B
- C
- D

Türkçe 7

Araştırmacılar yıllardır beynin yapısını ve özelliklerini anlamaya yönelik çalışmalar yapıyor. Her çalışma, beynimizle ilgili bilmediğimiz yeni bir şey ortaya çıkarıyor. Bir grup araştırmacı, insan beyninin daha önce bilinmeyen bir bölgesini buldu. Keşfedilen bu bölge, beyin ile omuriliğin birleştiği noktada yer alıyor. Bölgenin spor yapmak, müzik aleti çalmak ve dengede durmak gibi motor becerilerin kontrol edilmesiyle ilgili olduğu tahmin ediliyor.

Bu açıklamaya göre aşağıdaki durumların hangisinde beynin bu bölgesinin kullanıldığı söylenemez?

- A) Ünlü bilim insanı Andrew Barton'un, denizlerdeki ekolojik dengenin bozulmasıyla ilgili makalesi tüm dünyada ses getirdi.
- B) On beş yaşındaki Sümeyye Boyacı, İrlanda'daki Paralimpik Yüzme Şampiyonası'nda 50 metre sırtüstünde iki altın madalya ile Türkiye'ye döndü.
- C) Dünyanın en büyük yeteneklerinden biri olan İdil Biret, piyanist olarak dünyaya kendini kabul ettirmiştir.
- D) Nathan Paulin, yakın arkadaşı ile kurduğu ip hattının üzerinde bir kilometre boyunca cesurca yürüyerek dünya rekoru kırdı.

Yalnızca bir şıkkı işaretleyin.

- A
- B
- C
- D

Türkçe 8

Türk gölge oyunu ve farklı kültürlere ait gölge ve kukla sanatlarını tanıtmak, uluslararası paylaşım sağlamak ve ülkeler arasındaki dostluğu geliştirmek için düzenlenen Uluslararası Bursa Karagöz ve Gölge Oyunları Festivali'nin 18'incisi 18-23 Kasım tarihleri arasında gerçekleştirilecektir. Festivalde söyleşiler ve sergiler de var. UNESCO tarafından Dünya Somut Olmayan Kültürel Miras Listesi'ne dâhil edilen Karagöz, Bursa'da meraklılarını bekliyor.

Bu parçada söz konusu festivalle ilgili aşağıdakilerden hangisine değinilmemiştir?

- A) Kaçınıcısının yapıldığına
- B) Kimlerin katılabileceğine
- C) Amacının ne olduğuna
- D) Nerede düzenlendiğine

Yalnızca bir şıkkı işaretleyin.

- A
- B
- C
- D

Türkçe 9

Kastamonu %70'e varan ormanlık alanları, uzun sahilleri, Küre ve Ilgaz Millî Parkları, kanyonları, mağaraları ve Ilıca Şelalesi gibi birçok doğa harikasıyla değerli bir şehir. Burası misafirperver insanları, yedi bin yıllık tarihi ve sekiz yüz elli çeşidin üzerinde yerel lezzetle hayatınıza renk katacak.

Bu metinden Kastamonu'yla ilgili aşağıdakilerin hangisine ulaşamaz?

- A) Yöre halkının, konukları ağırlamaktan memnuniyet duyduğuna
- B) Orman bakımından ülkemizin en zengin şehri olduğuna
- C) Geçmişinin çok eskiye dayandığına
- D) Denize kıyısı bulunduğuna

Yalnızca bir şıkkı işaretleyin.

- A
- B
- C
- D

Türkçe 10

- Birbiri ardınca sıralanan eş görevli kelimelerin arasına konur.
- Art arda gelen, birbiri ile bağlantılı cümleleri ayırmak için konur.
- Kendisinden sonraki cümleye bağlı olarak ret, kabul ve teşvik bildiren *hayır, yok, evet, peki, pekâlâ* gibi kelimelerden sonra konur.

Aşağıdaki cümlelerin hangisinde virgül (,) bu işlevlerinin dışında kullanılmıştır?

- A) Kalemlerini, silgisini, defter ve kitaplarını çantasına koydu.
- B) Tamam, yarın akşam hep birlikte sinemaya gidiyoruz.
- C) Yaşlı adam sabah uyanıyor, kahvaltısını yapıp dükkânın yolunu tutuyor.
- D) O, yaşamına küçük bir sahil kasabasında devam edecekti.

Yalnızca bir şıkkı işaretleyin.

- A
- B
- C
- D

Matematik 1

Aşağıda üç farklı sayı örüntüsünün ilk dört adımı verilmiştir.

- 5, 9, 13, 17,,, ★,
- 7, 10, 13, 16,,, ■,
- 13, 18, 23, 28,,, ▲,

Her bir örüntünün 7. adımındaki sayılar sırası ile ★, ■ ve ▲ sembolleri ile ifade edilmiştir.

★ + ■ - ▲ işleminin sonucu aşağıdakilerden hangisidir?

- A) 3 B) 7 C) 11 D) 15

Yalnızca bir şıkkı işaretleyin.

- A
 B
 C
 D

Matematik 2

Osman Bey, eşi ve biri 13 yaşında diğer ikisi 10 yaşında olan üç çocuğu ile sinemaya gitmek istemektedir. Sinema giriş ücret tarifesi aşağıdaki gibidir:

YAŞ	ÜCRET
Yetişkin (18 + yaş)	17 TL
Çocuk (12 – 18 yaş)	15 TL
Çocuk (0 – 12 yaş)	12 TL

Cebinde 100 TL parası olan Osman Bey herkese bir bilet almıştır.

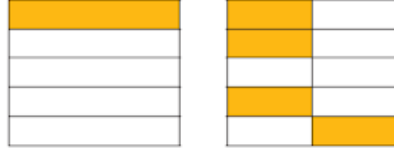
Buna göre Osman Bey'in geriye kaç TL parası kalır?

- A) 27 B) 34 C) 61 D) 73

Yalnızca bir şıkkı işaretleyin.

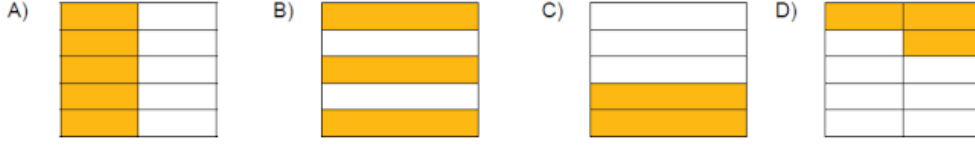
- A
 B
 C
 D

Matematik 3



Yukarıda, aynı bütün üzerinde iki farklı kesir modeli gösterilmiştir.

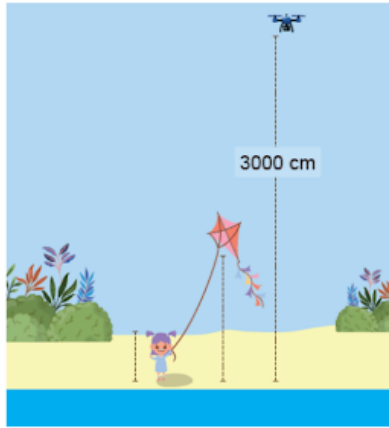
Buna göre, taralı alanların ifade ettiği kesirlerin toplamı aşağıdaki kesir modellerinden hangisi ile gösterilebilir?



Yalnızca bir şıkkı işaretleyin.

- A
 B
 C
 D

Matematik 4



Fatma sahilde uçurtma uçurmaktadır. Sahilde uçmakta olan drone (uçan göz) 3000 cm yüksekliktedir. Uçurtmanın yerden yüksekliği, drone'nun yerden yüksekliğinin $\frac{3}{25}$ 'üdür. Fatma'nın boyu ise uçurtmanın yerden yüksekliğinin $\frac{2}{5}$ 'sidir.

Buna göre Fatma'nın boyu kaç santimetredir?

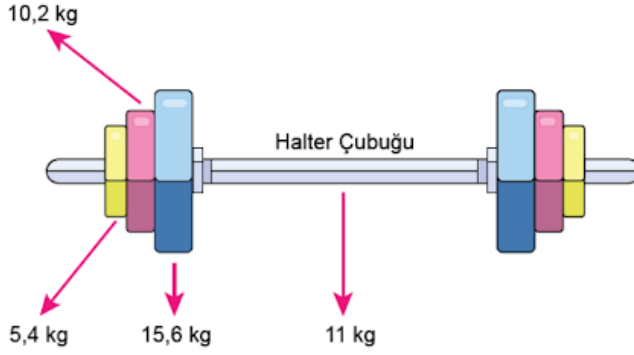
- A) 120 B) 144 C) 152 D) 154

Yalnızca bir şıkkı işaretleyin.

- A
 B
 C
 D

Matematik 5

Ali, Őekildeki gibi kütlesi 11 kilogram olan halter çubuğunun sađ ve sol tarafına 5,4 kilogram, 10,2 kilogram ve 15,6 kilogram kütleli yükleri takmıŐtır.



Bu halteri kaldırmakta başarılı olan Ali'nin kaldırdıđı kütle toplam kaç kilogramdır?

A) 73,4

B) 62,4

C) 42,2

D) 31,2

Yalnızca bir Őıkkı iŐaretleyin.

A

B

C

D

Matematik 6

Özge, bir mađazada bisiklet üzerindeki etikete baktıđında indirimde olduđunu görmüŐtür.



Normal fiyatı 500 TL olan bu bisikletin, %25 indirimli fiyatı etiket yırtıldıđı için görünmemektedir.

Buna göre bisikletin %25 indirimli fiyatı aŐađıdakilerden hangisidir?

A) 100 ₺

B) 125 ₺

C) 200 ₺

D) 375 ₺

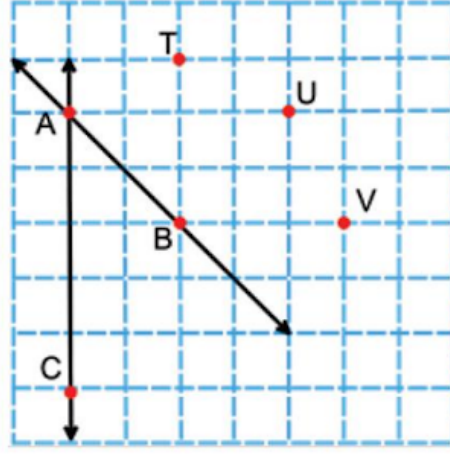
Yalnızca bir Őıkkı iŐaretleyin.

A

B

C

D



Kareli zemin üzerinde verilen şekilde, aşağıdakilerden hangisi çizilirse bir üçgen elde edilir?

A) [BU]

B) AU

C) [VB]

D) [TB]

Yalnızca bir şıkkı işaretleyin.

- A
 B
 C
 D

Matematik 8

Eba TV'den matematik dersini izledikten sonra teneffüs vaktinde ekranda çıkan cümledeki harfleri inceleyerek öğrendiklerini tekrar etmek isteyen Gamze, birbirine paralel doğru parçaları olan harfleri bulup defterine yazmıştır



Buna göre, Gamze'nin defterinde aşağıdaki harflerden hangisi olamaz?

A) Z

B) N

C) E

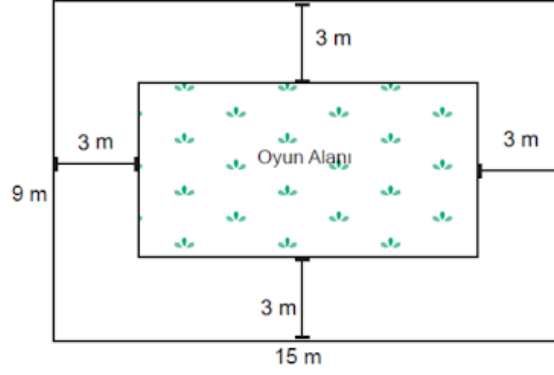
D) A

Yalnızca bir şıkkı işaretleyin.

- A
 B
 C
 D

Matematik 10

Aşağıda verilen dikdörtgen şeklindeki okul bahçesinin ortasına kenarlardan üçer metre boşluk bırakarak oyun alanı yapılacaktır.



Buna göre yapılacak oyun alanı kaç metrekaredir?

A) 27

B) 36

C) 64

D) 81

Yalnızca bir şıkkı işaretleyin.

A

B

C

D

Fen Bilimleri

Fen Bilimleri 1

Ay'ın evrelerinin oluşmasında etkili olan olay seçeneklerin hangisinde doğru verilmiştir?

A) Ay'ın Dünya etrafında dolanması

B) Ay'ın kendi eksenini etrafında dönmesi

C) Dünya'nın Güneş etrafında dolanması

D) Güneş'in kendi eksenini etrafında dönmesi

Yalnızca bir şıkkı işaretleyin.

A

B

C

D

Fen Bilimleri 2

Dünya'dan bakıldığında Güneş ve Ay hemen hemen aynı büyüklükte görünür." Bunun sebebi aşağıdakilerden hangisidir?

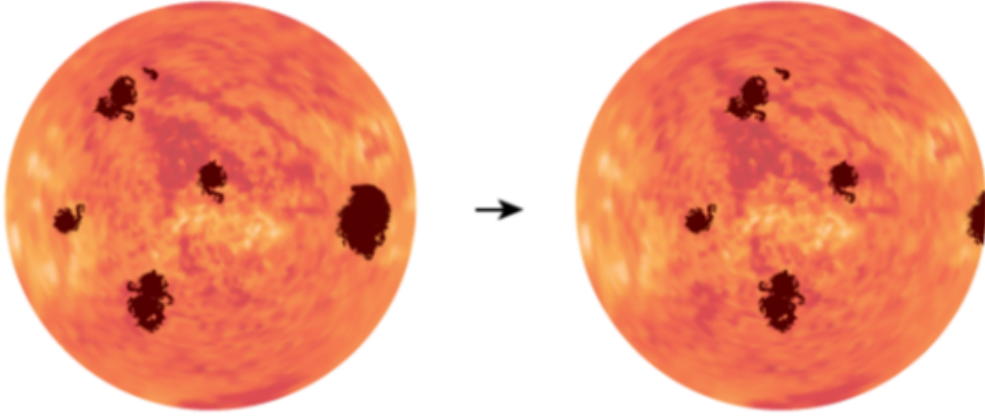
- A) Güneş ve Ay'ın küre şeklinde olması.
- B) Güneş ve Ay'ın aynı uzaklıkta olması.
- C) Güneş'in Ay'a göre çok daha uzak olması.
- D) Ay'ın kendi etrafında dönmesi.

Yalnızca bir şıkkı işaretleyin.

- A
- B
- C
- D

Fen Bilimleri 3

Galileo, teleskobu ile Güneş'i incelerken Güneş üzerinde koyu lekelerle karşılaşmış ve bunu görseldeki gibi kâğıda aktarmıştır. Galileo farklı tarihlerde yaptığı gözlemlerle lekelerin hep aynı yönde ilerlediğini fark etmiştir. Yıllar sonra yapılan gözlemler ile Güneş yüzeyindeki bu lekelerin bazılarının Dünya kadar, bazılarının ise daha da büyük olduğu anlaşılmıştır.



Verilen bilgilerden hareketle Güneş ile ilgili aşağıdakilerden hangisine ulaşamaz?

- A) Kendi etrafında dönme hareketi yapar.
- B) Dünya'ya göre daha büyük bir gök cisimidir.
- C) Dünya gibi katmanları bulunmaktadır.
- D) Küresel bir şekle sahiptir.

Yalnızca bir şıkkı işaretleyin.

- A
- B
- C
- D

Zeynep, incelemek için papatya, atkuyruğu ve eğrelti otu getirmiştir.



Papatya



Atkuyruğu



Eğrelti otu

Buna göre aşağıdaki tablolardan hangisi Zeynep'e aittir?

A)

	kök	gövde	yaprak	çiçek
Papatya	X	X		
Eğrelti otu	X	X	X	X
Atkuyruğu		X		X

B)

	kök	gövde	yaprak	çiçek
Papatya	X	X		X
Eğrelti otu	X		X	X
Atkuyruğu	X		X	X

C)

	kök	gövde	yaprak	çiçek
Papatya	X	X	X	X
Eğrelti otu	X	X	X	
Atkuyruğu	X	X	X	

D)

	kök	gövde	yaprak	çiçek
Papatya	X			
Eğrelti otu		X	X	X
Atkuyruğu	X		X	

Yalnızca bir şıkkı işaretleyin.

- A
- B
- C
- D

Bir canlıya ait özellikler şunlardır:

- Çok hücrelidir.
- Besinlerini dışarıdan hazır olarak alır.
- Omurgaya sahiptir.
- Vücutları tüyle kaplıdır.

Bu özelliklere uygun canlı aşağıdakilerden hangisidir?

A)



B)



C)



D)



Yalnızca bir şıkkı işaretleyin.

A

B

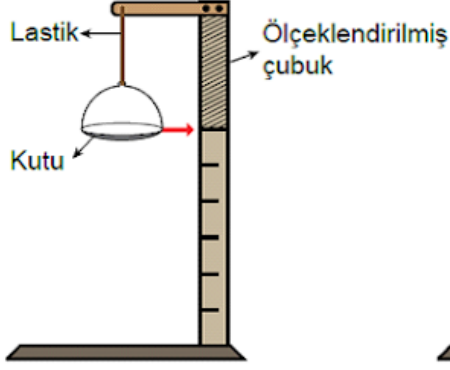
C

D

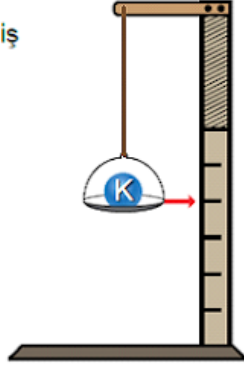
Öğretmen derste L cisminin ağırlığının ölçülmesini istiyor.

Bunun üzerine Mert,

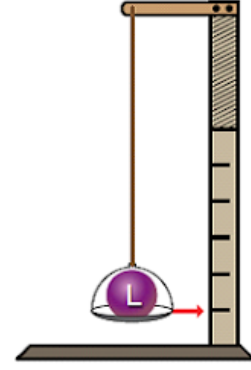
- Elindeki malzemelerle Şekil I'deki dinamometreyi yapıyor.
- Kutuya 8 N ağırlığında olduğu bilinen K cismini koyduğunda yaydaki uzama Şekil II'deki gibi oluyor.
- Kutuya L cismini koyduğunda ise yaydaki uzama Şekil III'teki gibi oluyor.



Şekil I



Şekil II



Şekil III

Buna göre L cisminin ağırlığı kaç N'dır?

- A) 20
- B) 12
- C) 8
- D) 16

Yalnızca bir şıkkı işaretleyin.

- A
- B
- C
- D

Tren rayı döşemesinde, köprü ve bina yapımında maddelerin genişleme ve büzülme miktarının dikkate alınması gerekir. Aksi takdirde raylarda bozulmalar, köprülerde çatlaklar, tellerde aşırı sarkmalar meydana gelebilir.

Verilen bilgilerden yola çıkarak bir sorun oluşmaması için elektrik telleri aşağıdakilerden hangisi gibi bağlanmalıdır?

A) Yaz mevsimi



B) İlkbahar mevsimi



C) Kış mevsimi



D) Sonbahar mevsimi



Yalnızca bir şıkkı işaretleyin.

- A
- B
- C
- D

Gölge oyunu etkinliğinde ellerin farklı şekillerde bir araya gelmesi ile bazı hayvanlara ait gölgeler oluşturulmuştur



Bu etkinliğe göre yapılan,

- I. Gölge ve gölgeyi oluşturan nesne aynı boydadır.
 - II. Işığın doğrusal olarak yayılması gölge oluşumunda etkilidir.
 - III. Opak maddeler ışığı geçirmediği için tam gölgeleri oluşur.
- Çıkarımlarından hangileri doğrudur?**

A) Yalnız I.

B) Yalnız II.

C) II ve III.

D) I, II ve III.

Yalnızca bir şıkkı işaretleyin.

A

B

C

D

Küresel ısınma dünya yüzeyindeki ortalama sıcaklığı her geçen yıl artırmaktadır. Sıcaklık artışı da canlılardan bazı değişikliklere yol açmaktadır.

Aşağıda bir bölgedeki yıllara göre ortalama sıcaklık ve bülbül sayısındaki değişimleri gösteren grafikler verilmiştir.



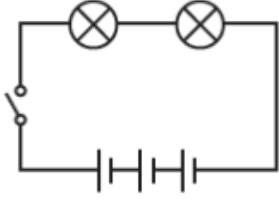
Buna göre grafikler incelendiğinde aşağıdakilerden hangisine ulaşılır?

- A) Sıcaklık değeri zamanla azalırsa bülbül sayısı azalır.
- B) Bülbüller uygun sıcaklıktaki bölgelere göç etmiş olabilirler.
- C) Bülbüllerin besini olan tırtılların sayısında zamanla azalma görülebilir.
- D) Sıcaklık artışından sadece bülbüller değil diğer kuş türleri de etkilenir.

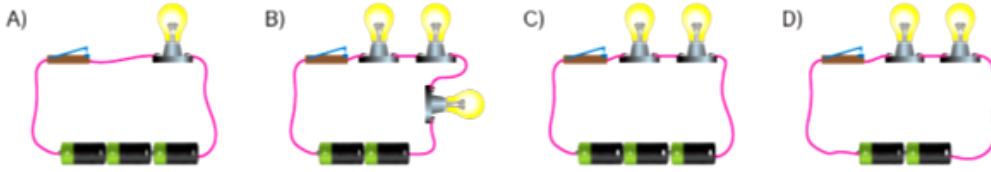
Yalnızca bir şıkkı işaretleyin.

- A
- B
- C
- D

Bir öğrenci kurduğu basit elektrik devresinin şemasını aşağıdaki gibi çiziyor.



Öğretmen çizilen şemayı inceliyor ve bir pil çıkartılırsa doğru olacağını söylüyor. **Buna göre öğrencinin kurduğu basit elektrik devresi aşağıdakilerden hangisidir?**



Yalnızca bir şıkkı işaretleyin.

- A
- B
- C
- D

Sosyal 1

Bütün hayatını tıbbi ilimlere ve eczacılık sahasındaki çalışmalara veren Ez-Zehravi uzmanlık alanlarını ve cerrahide kullandığı 200 kadar aleti, yazdığı eserinde resimlerini de çizerek anlatmıştır. Hayvan bağırsaklarından yaptığı iplikle attığı di-kişilerin kendi kendine kaybolduğunu da Ez- Zehravi bulmuş ve bu buluşa katküt adını vermiştir. Bugün hala ameliyatlarda katküt kullanılmaktadır.

Buna göre Ez-Zehravi ile ilgili olarak;

- I. Çalışmaları günümüzde de kullanılmaktadır.
- II. İnsan sağlığı için çalışmalar yapmıştır.
- III. Tıp dünyasına önemli bir miras bırakmıştır.

yargılarından hangilerine ulaşılabilir?

- A) Yalnız I. B) I ve II. C) II ve III. D) I, II ve III.

Yalnızca bir şıkkı işaretleyin.

- A
 B
 C
 D

Sosyal 2

Aşağıdaki tablonun I, II ve III numaralı alanlarında bazı doğal afetlerin oluşumu ile ilgili açıklamalar verilmiştir.

I	II	III
Dik yamaçlarda bulunan toprak veya kayaların aşağıya doğru hareket ederek kaymasıyla oluşur.	Dağlık ve engebeli yerlerde sürekli kar yağması sonucu yamaçlarda biriken kar kütlelerinin aşağıya doğru hareket etmesi sonucu oluşur.	Bitki örtüsü bakımından fakir ve eğimli yamaçlarda bulunan toprağın su, rüzgâr vb. etkilerle aşındırılarak başka yerlere taşınması ile oluşur.

Tabloda açıklamaları verilen doğal afetler aşağıdaki seçeneklerin hangisinde doğru olarak eşleştirilmiştir?

- | I | II | III |
|------------|---------|---------|
| A) Heyelan | Çiğ | Erozyon |
| B) Çiğ | Heyelan | Erozyon |
| C) Erozyon | Çiğ | Heyelan |
| D) Heyelan | Erozyon | Çiğ |

Yalnızca bir şıkkı işaretleyin.

- A
 B
 C
 D

Sosyal 4



Ormanların ülkemizdeki dağılım oranı haritası incelendiğinde, ormancılığa bağlı meslek alanlarında çalışanların hangi bölgede daha az olması beklenir?

- A) Ege Bölgesi
B) Karadeniz Bölgesi
C) İç Anadolu Bölgesi
D) Güney doğu Anadolu Bölgesi

Yalnızca bir şıkkı işaretleyin.

- A
 B
 C
 D

Sosyal 5

KAİBAB CEYLANININ YOK OLUŞU

"Bir zamanlar Kaibab dengeli bir yaşam içinde iken, oradaki halk bu ceylanları kurtlar ve sırtlanlardan koruyalım diyerek, çevredeki kurt ve sırtlanların tümünü öldürmüşler. Düşmanları ölen ceylanlar büyük bir hızla çoğalmaya başlamışlar ve sayıları o kadar çok artmış ki, kendilerine o çevrede yiyecek yetişmemeye başlamış. Yiyecek yokluğundan büyük sayılarda ölmeye başlamışlar. Tek tek kurt ve sırtlanların öldüreceklerinden çok daha fazlası, açlıktan sürüler halinde ölmüş. Ayrıca o çevredeki bitki örtüsü aç ceylanların her şeye saldırmasından büyük zarar görmüş."

Metinde verilen bu olay için aşağıdaki yorumlardan hangisi söylenemez?

- A) Bir olayın sonucu başka olayların nedeni olmuştur.
B) İnsanlar doğal dengeye müdahalede bulunmuşlardır.
C) Dünyadaki kurt ve sırtlanların nesli yok olmuştur.
D) Çevredeki bitki örtüsü zarar görmüştür.

Yalnızca bir şıkkı işaretleyin.

- A
 B
 C
 D

Bakkalın "veresiye defterini" satın alarak borçluları sevindirdi.



Kırklareli'nin Lüleburgaz ilçesinde bir hayırsever, ramazan ayı dolayısıyla ihtiyaç sahiplerine yardım etmek amacıyla bir bakkalın veresiye defterini 6 bin lira ödeyerek satın aldı. Bakkal sahibi yaptığı açıklamada, Osmanlı'da zenginlerin ramazan ayında esnaftan "zimem" denilen veresiye defterini satın alması geleneğinin bugün bir hayırsever tarafından sürdürülmesinden memnuniyet duyduğunu dile getirdi.

Aşağıdakilerden hangisi bu habere konu olan geleneğin amaçlarından biri olamaz?

- A) Yardım sahibini gösterişe kapılmaktan korumak
- B) Yardımlaşırken insan onurunu gözetmek
- C) Yardımlaşmada yakınlarla öncelik vermek
- D) İnsanların ihtiyaçlarını karşılamak

Yalnızca bir şıkkı işaretleyin.

- A
- B
- C
- D

DKAB 2

“Bir yolcu çok susamıştı. Derken bir kuyuya rastladı. Kuyuya inip su içti. Çıkınca susuzluktan soluyup duran bir köpek gördü. Adam kendi kendine: ‘Bu köpek de benim gibi susamış.’ deyip tekrar kuyuya indi. Su ile doldurduğu ayakkabısını ağızıyla tutarak kuyudan çıktı ve köpeğe suyu verdi. Allah onun bu davranışından razı oldu ve günahlarını affetti.”

Bu hadisteki altı çizili bölüm Allah’ın hangi özelliği ile ilişkilendirilebilir?

- A) Her şeyi yaratması
- B) Görmesi ve işitmesi
- C) Merhamet sahibi olması
- D) Her şeye gücünün yetmesi

Yalnızca bir şıkkı işaretleyin.

- A
- B
- C
- D

DKAB 3

Adap kuralları, insan ilişkilerini düzenleyen ve kolaylaştıran yazılı olmayan toplumsal kurallardır.

Buna göre aşağıdakilerden hangisi adap kuralları kapsamında değerlendirilemez?

- A) Eve girerken izin istemek
- B) Trafik işaretlerine uymak
- C) Sınıfa girerken selam vermek
- D) Otobüste yaşlılara yer vermek

Yalnızca bir şıkkı işaretleyin.

- A
- B
- C
- D

DKAB 4

Bir gün Hz. Muhammed'in (sav.) evinde bir koyun kesilir. Hz. Aişe koyunun bir kolu hariç etin tamamını yoksullara dağıtır. Hz. Peygamber eve geldiği zaman, "Koyundan ne kadar kaldı?" diye sorar. Hz. Aişe, "Koyunun şu ön kolu hariç hiçbir şey kalmadı." şeklinde cevap verir. Bunun üzerine Hz. Peygamber, "Demek ki ön kolu hariç tamamı bize (sevap olarak) kaldı." buyurur.

Bu hadiste aşağıdakilerden hangisine teşvik vardır?

- A) İbadetlerin devamlılığına
- B) Hoşgörülü olmaya
- C) Aile içi istişareye
- D) Yardımlaşmaya

Yalnızca bir şıkkı işaretleyin.

- A
- B
- C
- D

Hız. Muhammed'in (sav.) bazı örnek davranışları şunlardır:

- İhtiyaç duymadığı eşyaları almaz, gereğinden fazla yemek yemezdi.
- Hasta ziyaretine önem verir, taziyelere gider ve davetlere katılırdı.
- Hiç kimseye ayrıcalık tanımaz, herkese eşit davranırdı.

Hız. Peygamber'in bu davranışları kapsam bakımından aşağıdakiler ile eşleştirildiğinde hangisi dışarıda kalır?

- A) İsrraftan kaçınması
- B) İnsana değer vermesi
- C) Sosyal adaleti önemsemesi
- D) Müslümanların eğitimine önem vermesi

Yalnızca bir şıkkı işaretleyin.

- A
- B
- C
- D

İngilizce

İngilizce 1

Read the conversation and answer the question.

Martin: Hello, I am Martin.
Welcome to our class.

Julia: Thank you, Martin.
I'm Julia.

Martin: ---?

Julia: I'm from England.

Martin: ---?

Julia: Two, English and Italian.

Martin: ---?

Julia: I love doing experiments,
so science is my best.

İngilizce 1

Which of the following DOES NOT complete the conversation?

- A) How old are you
- B) Where are you from
- C) What's your favourite class
- D) How many languages do you speak

Yalnızca bir şıkkı işaretleyin.

- A
- B
- C
- D

İngilizce 2

My name is Susan.

I get up at seven o'clock every morning. I wash my face and have breakfast at quarter past seven. I get dressed and get on the school bus at eight o'clock. My classes start at quarter to nine. I arrive home at half past three in the afternoon. I do my homework. We have dinner at half past seven in the evening.



İngilizce 2

Which of the following question DOES NOT have an answer in the text?

- A) When does she go to bed?
- B) What time does she get up?
- C) How does she go to school?
- D) What does she do in the evening?

Yalnızca bir şıkkı işaretleyin.

- A
- B
- C
- D

İngilizce 3

Read the conversation and answer the question.

Tim : Let's watch "Hobbit".

Mark : What kind of movie is it?

Tim : Fantastic.

Mark : Oh, I don't like fantastic films.

Tim : What about science fiction?

Mark : Sounds good. I like astronauts.

Which movie should they watch?

A)



B)



C)



D)



Yalnızca bir şıkkı işaretleyin.

- A
- B
- C
- D

İngilizce 4

Read the text and answer the question.

I am Ellie. I am throwing a surprise birthday party for my mum. I must buy balloons and some confetti to decorate the living room. Then, I must order a birthday cake. I also must buy some beverages and a gift.

What does NOT Ellie need for the party?

A)



B)



C)



D)



Yalnızca bir şıkkı işaretleyin.

A

B

C

D

İngilizce 5

Look at the visual and answer the question.



Which of the following is NOT correct according to the visual above?

A) Joe is riding the horse.

B) Kate is collecting the eggs.

C) Amy is watering the vegetables.

D) Sally is feeding the rabbits.

Yalnızca bir şıkkı işaretleyin.

A

B

C

D

5.SINIF CEVAP ANAHTARI	TÜRKÇE	MATEMATİK	FEN	SOSYAL	DİN	İNGİLİZCE
1	C	C	A	D	C	A
2	D	A	C	A	C	A
3	C	B	C	B	B	A
4	D	B	C	D	D	D
5	D	A	C	C	D	D
6	C	D	A			
7	A	C	A			
8	B	D	C			
9	B	C	B			
10	D	A	D			