

25. Türkçe 1

Aşağıdaki cümlelerin hangisinde “temizlik” kavramını anlatan bir söz kullanılmamıştır?

- A) Annem bayramdan önce evin her yanını silip süpürdü.
- B) Kendini temize çıkartmak için üstünün aranmasını istedi.
- C) Teyzem çok titiz bir kadındı, evinin her tarafına bal dök yala.
- D) Hiç beklemeden kar gibi çamaşırları serip eve döndü.

Yalnızca bir şıkkı işaretleyin.

- A
- B
- C
- D

26. Türkçe 2

Bir yazarın belirli bir konudaki düşüncelerini belli kanıtlar, belgeler ve inandırıcı veriler kullanarak okuyucuya kabul ettirmeye çalıştığı öğretici yazılara **makale** denir.

Aşağıdakilerden hangisi bu açıklamayı örneklendiren bir metindir?

- A) Orta Çağ boyunca yetişmiş en büyük Müslüman düşünürlerden olan İbn-i Sina'nın El Kanun fit- Tıp adlı eseri uzun yıllar boyunca akademilerde ders kitabı olarak okutulmuştur. Orta Çağ biliminin henüz Yunan düşünürlerle tanışmadığı bir dönemde Müslümanların yazdığı El Kanun fit-Tıp gibi eserler bilgeliği Avrupa'ya taşıyordu. Tıp alanındaki neredeyse en meşhur kitaplardan birisi olan bu eser tüm Orta çağ boyunca batı dillerine çevrilmiştir. Bu eserin önerdikleri denendi, yanlışları gözlemlendi ve tıp bilimi böylece deney ve akıl yürütmenin evrensel nitelikleri üzerinde yükseldi.
- B) Kitaptan korkmak, insan düşüncesinden korkmak, insanı kabul etmemektir. "Bırak, senin yerine ben düşünüyorum!" demekle, "Falan kitabı okuma!" demek arasında hiçbir fark yoktur. Ondandır mahrum edilen insan, kendiliğinden bir paçavra hâline düşer. Şüphesiz insanı korumamız lâzım gelen vaziyetler vardır. Orta Çağ'dan bugüne kadar gelen zaman içinde insanlığın belki en büyük kazancı bu basit hakikati anlamasıdır.
- C) İzmir Saat Kulesi'ne gitmeye karar verdik. Mersin'den kendi arabamız ile akşamüzeri yola çıktık. Sabah İzmir'deydik. İzmir'de gitmek istediğimiz belki de tek yer Saat Kulesi idi. Çünkü daha önce çoğu kez İzmir'e gelmiştik ama bir türlü Saat Kulesi'ne gidememiştik. Tüm ihtişamı ile Kule karşımızda duruyordu. Bu yapının etrafı beyaz mermerden, diğer bölümleri kesme taştan yapılmıştı. Üçer çeşmesi ile kurnası, ortasında da fiskiyeleri vardı. Ay yıldız kabartmalar mükemmel ötesiydi.
- D) Martılardan söz etmiyorum. Onları sayısız çığırış ve çırpınışlarıyla kıyılarda görür, durur ve görmesini de severiz. Ama o bildiğimiz martılardan çok daha büyük ve kanatları çok daha uzun bir açık deniz martısı vardır. Onlara Güney Akdeniz' de "miho" derler. İşte onlardan söz etmek istiyorum. Sanki kuş değildir kanatlanmış bir köpük parçası -ne bileyim- bir ıssızlık parçasıdır. Denizin o hırlayan uçurumları, tepetaklak dönmüş Nigara Şelaleleri gibi havaya yükselirken onlara gün doğdu demektir.

Yalnızca bir şıkkı işaretleyin.

- A
- B
- C
- D

27. Türkçe 3

.Metinlerdeki anlatıcı türlerinden hangisi diğerlerinden farklıdır?

- A) Bir gün küçük kızımın evde canı çok sıkılmıştı. Elime yapışmış, "Hadi baba beni gezmeye götür." diye ısrar ediyordu. "E hadi bakalım, isteğin olsun Fatih'e çıkalım biraz." dedim. Bizim ufaklığın neşeli şarkıları eşliğinde evden ayrıldık.
- B) Vapur kıyıya yanaştı. Sanki uzaklara dalmış öylece bakıyordum. Kimi yolcular gözlerini kıyıya dikmiş; bir acelesi varmış, hemen kıyıya inmek istiyormuş gibi bekliyor. Kimileri vapurun köpürttüğü sulara dalıp gitmiş. Kimileri martıları seyrediyor, kiminin gözleri kapalı belli ki hayallerde oyalanıyor. Ben de insanlara dalmışım.
- C) Kendisiyle ilgili neler söylendiğini duymaya, anlamaya çalışıyordu. Çünkü arkadaşlarının onunla ilgili neler düşündüğünü merak ediyordu. Bir ara bir arkadaşının onunla ilgili yaptığı bir yoruma biraz canı sıkılmıştı. Arkadaşı onu yanlış anlamıştı ve bu durumu düzeltmenin hemen bir yolunu bulmalıydı.
- D) Başım önümde, karışık düşüncelere dalmış eve doğru ilerliyordum. Sokağı meydana bağlayan köşeye inince önümden koşarak iki çocuk geçti. Bir an durdum sanki bir uykudan uyanır gibi kendime geldim. Sanki bana onların neşeli enerjisi geçti.

Yalnızca bir şıkkı işaretleyin.

- A
- B
- C
- D

28. Türkçe 4

- I. Ülkemizde termal turizmde önemli bir yere sahip olan Kütahya, birçok kaplıcasıyla misafirlerini ağırlamaya devam etmektedir. Bu kaplıcalardan biri de Simav Eynal Kaplıcaları'dır. Yapılan araştırmalarda kaplıcanın; sağlığa olumlu etkileri olan sodyum, kalsiyum, sülfat, bromür ve bikarbonat yönünden zengin olduğu tespit edilmiştir.
- II. Kaplıcamızdaki sıcak su kuyularındaki suların sıcaklığı 97-162 derece arası olup debisi yaklaşık 270 lt/sn.dir. Ayrıca Eynal Kaplıcaları'ndaki 725 m derinlikteki 162 derece sıcak su ile Simav şehir merkezindeki 2000 konuta, jeotermal enerji ile merkezi ısıtma sağlanmakta ve 365 gün, 24 saat evlere sıcak su verilmektedir.
- III. Eynal, sağlık için tatil yapmayı planlayanların tercih ettiği termal bölgeler arasındadır. 3 bin yıldan bu yana birçok hastalığa iyi gelen sularıyla şifa vermeye devam etmektedir. Romatizma, cilt, deri, mide ülseri, böbrek taşı, egzama ve birçok hastalığa iyi gelen termal sular; ruhunuzu da dinlendirecektir.
- IV. Kütahya'nın güneybatısında Simav'a 4 km uzaklıktadır. Simav'dan Eynal'a 07.00-23.00 saatleri arasında belediye otobüsleriyle ulaşım sağlanabilmektedir. Eynal Kaplıcaları, özellikle haziran ve kasım aylarında yüzde yüz doluluk oranına ulaşmaktadır.
- V. Evliya Çelebi Simav'ı gezdikten sonra Eynal Kaplıcaları için şu ifadeleri kullanmıştır: "Dünyada ve Anadolu'da birçok kaplıcaı gezdim, gördüm ama Eynal Kaplıcaları gibisini görmedim. Böylesi yeryüzünde yoktur."

"Kaplıcaların Sağlığa Etkileri" konulu araştırma yapan birinin notlarında, hangilerinin kesinlikle bulunması gerekir?

A) I ve V

B) II ve IV

C) II ve III

D) I ve III

Yalnızca bir şıkkı işaretleyin.

 A

 B

 C

 D

29. Türkçe 5

Hayvanlar zaman zaman birbiriyle iletişim kurarlar. Onların konuşma dilinde bizim kullandığımız a, b, c, ... yok elbette. Bu nedenle "Tak tak, kim o?" ya da "Burası benim evim, çabuk git buradan!" gibi konuşmaların hayvanlar arasında geçmesi düşünülemez. Ancak her ne kadar bizim kullandığımız dili kullanmasalar da kendi aralarında farklı yöntemlerle iletişim kurarlar. Kedimiz ya da köpeğimiz yerde şımarıkça yuvarlandığında "Hadi beni sev biraz." ya da önümüze oyuncasını getirip bıraktığında "Sen at, ben de koşup getireyim." demek istemektedir.

Bu metinde vurgulanmak istenen düşünce hangisidir?

- A) Hayvanlar da iletişim kurarlar.
- B) İnsanlar da hayvanlarla iletişim kurmak için çaba harcarlar.
- C) Hayvanları anlamak için kedi ya da köpek beslemeliyiz.
- D) Sevgi dili canlılar arasında anlaşmayı sağlar.

Yalnızca bir şıkkı işaretleyin.

- A
- B
- C
- D

30. Türkçe 6

Bir bankanın internet şubesinde şifresini yenilemek isteyen Emre Bey, aşağıdaki uyarılarla karşılaşmıştır:

- Şifreniz son üç şifrenizle aynı olmamalı.
- Şifreniz aynı rakamlardan oluşmamalı (0000, 2222... gibi).
- Şifreniz 19.... ile başlamamalı.
- Şifreniz 6 (altı) haneli olmalı.
- Şifrenizde en az bir büyük harf, bir de küçük harf olmalı.
- Şifrenizde (. , ! ? @ + *) sembollerinden birisi olmalı.

Emre Bey'in son üç şifresi E3qYD*, lcXxf* ve WQ+E6i'dir.

Buna göre Emre Bey'in alacağı yeni şifre aşağıdakilerden hangisi olabilir?

- A) 190Y3w B) 62bo4@
C) @Lkmb1 D) E3qYD*

Yalnızca bir şıkkı işaretleyin.

- A
 B
 C
 D

31. Türkçe 7

Gerçekleştirmeye başlandığı 2018'den bu yana ziyaretçi rekorları kıran ve dünyanın en büyük havacılık, uzay ve teknoloji festivali olan TEKNOFEST; TC Sanayi ve Teknoloji Bakanlığı ile Türkiye Teknoloji Takımı Vakfının yürütücülüğünde, Türkiye'nin önde gelen teknoloji şirketleri, medya kuruluşları ve üniversitelerinin desteğiyle eylülün 24'ü ile 27'si arasında Gaziantep'de düzenlendi. Yüz binlerce genç mucidi bir araya getiren TEKNOFEST'te, TÜBİTAK bu yıl da birbirinden heyecanlı yarışmalar ve etkinliklerle festivaldeki yerini aldı.

Bu metinde aşağıdaki kurallardan hangisiyle ilgili bir yanlışlık yapılmamıştır?

- A) Kurum, kuruluş, kurul, birleşim, oturma ve iş yeri adlarına gelen ekler kesme işaretiyle ayrılmaz.
- B) Büyük harflerle yapılan kısaltmalarda nokta kullanılmaz ancak gelenekleşmiş olanlarda kullanılır.
- C) Dilimizde sert ünsüzle biten kelimeler sert ünsüzle başlayan ekler alır.
- D) Belirli bir tarih bildiren ay ve gün adları büyük harfle başlar.

Yalnızca bir şıkkı işaretleyin.

- A
- B
- C
- D

32. Türkçe 8

Düşünceyi etkili biçimde ifade etmek için düşünceyi geliştirme yollarından yararlanmamız gerekir.

- ▶ En az iki unsurun benzer ya da farklı yönlerinin kıyaslanması karşılaştırmadır.
- ▶ Düşünceyi inandırıcı kılmamanın yollarından biri de sayısal verilerden yararlanmadır.
- ▶ Bir kavram ya da olayın belirgin özellikleriyle tanıtılması tanımlamadır.

Burada belirtilen düşünceyi geliştirme yollarının tamamı seçeneklerin hangisinde kullanılmıştır?

- A) Günümüzde teknolojik alandaki hızlı gelişmeler insanların yaşam biçimini köklü ve kalıcı biçimde değiştirmiştir. Söz konusu değişim hem tüketici hem de işletme açısından birçok kolaylığı da beraberinde getirmiştir. Bilgisayar ve akıllı telefonların hayatımıza girmesi ile bu değişim daha da hızlanmış, beklenmedik şekilde toplumdaki aile ilişkilerini, sosyal hayat alışkanlıklarını, alışveriş biçimlerini, gazete okuma davranışlarını ve hatta bakkaldan ekmek alma şeklini bile değiştirmiştir.
- B) Ben 45 yıllık yaşamımda her okuduğum romanda asıl kendime yaklaştığıma inanıyorum. Her biri çok yanlı gerçeğimizi açar bana. Neden söz ederse etsin beni, başkalarını, yaşamayı tanıtır. Balzac "Eugenie Grandef" i yazmasaydı gecem gündüzüm bencillerle geçtiği hâlde nereden bilecektim bencilliği? "Kızıl ile Kara" olmasaydı benim de öz geçmişimden haberim olmayacaktı.
- C) Teknoloji bağımlılığı; telefon, bilgisayar, akıllı cihazlar ve oyun konsolları gibi dijital aygıtların, aşırı ve kontrolsüz kullanımına denir. Genel istatistik verilerine göre ABD'de her 8 vatandaştan 1'i teknoloji bağımlısı olarak hayatını sürdürmektedir. Ülkemize ilişkin 2015 yılı raporlarında ülke nüfusunun yüzde 55.9'unun internet kullandığı görülmektedir. Bağımlılık konusunda ABD'den daha iyiyiz.
- D) Arı, on binlerce yıldır aynı işi en kusursuz biçimde yapar: Düzgün, geometrik ölçülerle peteğini örer ve topladığı binbir çiçek tozundan, bir kimya laboratuvarının imbiclerinden daha üstün biçimde balını süzer. Oysa insanoğlu uğraştığı on binlerce işi binlerce yıldır giderek geliştirmekte ve hâlâ en kusursuza ulaşmaya çalışmaktadır.

Yalnızca bir şıkkı işaretleyin.

- A
- B
- C
- D

33. Türkçe 9

Nesne, cümlede öznenin yaptığı “eylemden” etkilenen ögedir.

Buna göre aşağıdakilerin hangisinde nesne kullanılmıştır?

- A) Yaşlı balıkçı, şaşkınlıkla izlediği bu olaya daha fazla dayanamadı.
- B) Tomurcuk derdinde olmayan ağaç odundur, demiş Necip Fazıl.
- C) Nereye gittiğini bilen adam bütün dünyaya yön verir.
- D) Dalgalar ve rüzgarlar daima yetenekli denizcilerin yanındadır.

Yalnızca bir şıkkı işaretleyin.

- A
- B
- C
- D

34. Türkçe 10

Tatamide gurur kaynağı kadın tekvandocular

İtalya'da düzenlenen G4 Ekstra Avrupa tekvando Şampiyonası'nda 5'te 5 yaparak takım hâlinde şampiyonluğa ulaşan kadın millî sporcular performanslarıyla dikkati çekti.

IREM YAMAN		ALTIN MADALYA 57 kilo
RUKİYE YILDIRIM		ALTIN MADALYA 49 kilo
ZELİHA AĞRIS		GÜMÜŞ MADALYA 53 kilo
NUR TATAR ASKARI		BRONZ MADALYA 67 kilo
NAFİA KUŞ		BRONZ MADALYA +67 kilo

TÜRKİYE 5 MADALYA KAZANDI

AY-YILDIZLI KADIN TEKVANDOCULAR, TAKIM HALİNDE AVRUPA ŞAMPİYONU OLDU

2 ALTIN
1 GÜMÜŞ
2 BRONZ

11.3.2019

A Milliye Sporları

Görselden yola çıkarak hangisi "ülkemizin kazandığı sportif başarı"yla ilgili önemsiz bir bilgidir?

- A) G4 Ekstra Avrupa Tekvando Şampiyonası'nda katılan beş sporcumuz da madalya almaya hak kazanmıştır.
 B) Kadın tekvandocularımız takım hâlinde şampiyon olmuştur.
 C) Tekvandocularımızın madalya dağılımı 2 altın, 1 gümüş, 2 bronz şeklindedir.
 D) G4 Ekstra Avrupa Tekvando Şampiyonası İtalya'da yapılmıştır.

Yalnızca bir şıkkı işaretleyin.

- A
 B
 C

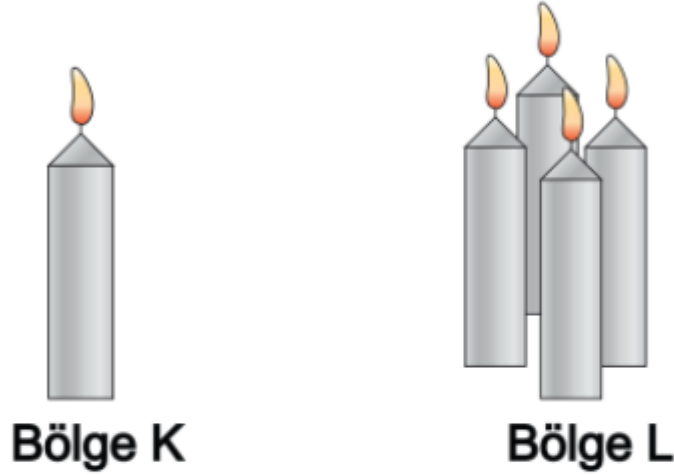
D

Fen Bilimleri

Bu bölümde 10 soru bulunmaktadır.

35. Fen Bilimleri 1

Özdeş mumlar kullanılarak K bölgesinde bir mum, L bölgesinde dört mumdan oluşan bir deney tasarlanmıştır. Mumlar yakılarak alevlerin hareketi gözlenmiştir. K ve L bölgesindeki mumların mesafesi 10 cm'dir.



Buna göre aşağıdakilerden hangisi söylenemez?

- A) Bölgeler arasında basınç farkı oluşur.
- B) K bölgesinde yükseltici hava hareketi gözlenir.
- C) L bölgesindeki havanın yoğunluğu daha azdır.
- D) Oluşan rüzgârın yönü K bölgesinden L bölgesine doğrudur.

Yalnızca bir şıkkı işaretleyin.

- A
- B
- C
- D

36. Fen Bilimleri 2



Özge 1 Ocak tarihinde Aydın'dan Avusturalya'ya tatile gitmiştir.

Özge'nin Avusturalya'da yaşadığı durumla ilgili çıkarımlardan hangisi yapılabilir?

- A) Özge, farklı yarım kürelerde aynı tarihte farklı mevsim yaşadığını bilmiyordur.
- B) Avusturalya'da 1 Ocak tarihinde küresel ısınmadan dolayı karlar erimştir.
- C) Özge Avusturalya'ya ocak ayında değil de aralık ayında gitseydi kayak yapabilirdi.
- D) Avusturalya'da kış mevsimi yaşanmadığı için Özge kayak hayalinden vazgeçmelidir.

Yalnızca bir şıkkı işaretleyin.

- A
- B
- C
- D

37. Fen Bilimleri 3

Türkiye'de 1970'den bu yana yapılan yıllık sıcaklık ölçüm sonuçlarının ortalamaları tabloda verilmiştir.

Yıllar	Ortalama Sıcaklık (C ⁰)
1970-1978	12,7
1979-1987	12,8
1988-1996	12,8
1997-2006	13,4
2007-2016	13,9

Bu bilgilere bakılarak aşağıdaki çıkarımlardan hangisi yapılamaz?

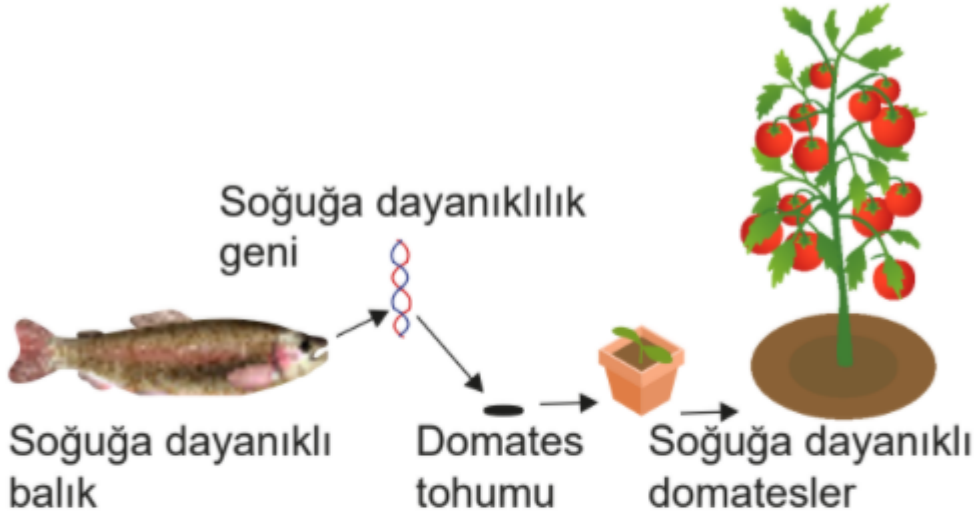
- A) Tabloya göre yıllık ortalama sıcaklık değerleri sürekli artış eğilimindedir.
- B) 1988-2006 yıllarında ortalama sıcaklıkta meydana gelen değişim fosil yakıtların sera etkisi oluşturmasından kaynaklanıyor olabilir.
- C) 1997-2016 yılları arasında sel, orman yangını ve kuraklığın giderek artması sıcaklıktaki fazla artıştan kaynaklanabilir.
- D) 1997 yılından itibaren sıcaklıktaki bu hızlı artış Türkiye'deki deniz seviyelerinin beklenenden daha fazla artmasına neden olabilir.

Yalnızca bir şıkkı işaretleyin.

- A
- B
- C
- D

38. Fen Bilimleri 4

Aşağıda soğuk bölgelerde yaşayan bir balık türünün hücrelerinden elde edilen soğuğa dayanıklılık geninin domates tohumlarına aktarılarak soğuğa dayanıklı domates elde edilmesi gösterilmiştir.



Verilen bilgilere göre aşağıdaki çıkarımlardan hangisi yapılamaz?

- A) Genetik mühendisliği ile elde edilen bir ürün biyoteknolojide kullanılmıştır.
- B) Balığın bütün genetik bilgisi domates bitkisinin tohumuna aktarılmıştır.
- C) Bu yöntemle soğuk bölgelerde domates yetiştirmek kolaylaşacaktır.
- D) Bu yöntemle elde edilen domatesler genetiği değiştirilmiş domateslerdir.

Yalnızca bir şıkkı işaretleyin.

- A
- B
- C
- D

39. Fen Bilimleri 5

Pencere önüne konulan bitkilerin pencereye doğru eğildiklerini herkes gözlemiştir. Bu olaya fototropizma denir. Işığa yönelim anlamına gelen fototropizma bitkilerin ışıktan daha çok yararlanarak daha çok fotosentez yapmalarını sağlayan bir fizyolojik olaydır. Benzer yönelim köklerde ışıktan kaçma şeklinde suya doğru gerçekleşmektedir. Bitkilerin gövdeleri ve yaprakları ışığa doğru yönelerek pozitif fototropizma, kökleri ise ışığa ters yönde negatif fototropizma gösterirler.

Buna göre aşağıdaki ifadelerden hangisi yanlıştır?

- A)** Bitkilerde görülen yönelim hareketleri bir adaptasyon örneğidir.
- B)** Kök ve gövdenin zıt yönlerde hareketi bitkinin yaşam şansını artırır.
- C)** Bitkide yönelim kalıtsal bir özellik değildir, ortam şartlarına göre ortadan kalkabilir.
- D)** Işığın yönü ve topraktaki suyun yeri değiştiğinde bitkinin yönelimi değişir.

Yalnızca bir şıkkı işaretleyin.

- A
- B
- C
- D

40. Fen Bilimleri 6

Çekirgeler 16°C 'de yetiştirilirse beneksiz, 25°C 'de yetiştirilirse benekli olur.

Arılarda arı sütüyle beslenen dişi yavru kraliçe olurken polen ile beslenen dişi yavru işçi arı olmaktadır.

Spor yapan insanların kasları gelişir.

Buna göre verilen bilgiler ile ilgili aşağıdaki ifadelerden hangisi doğrudur?

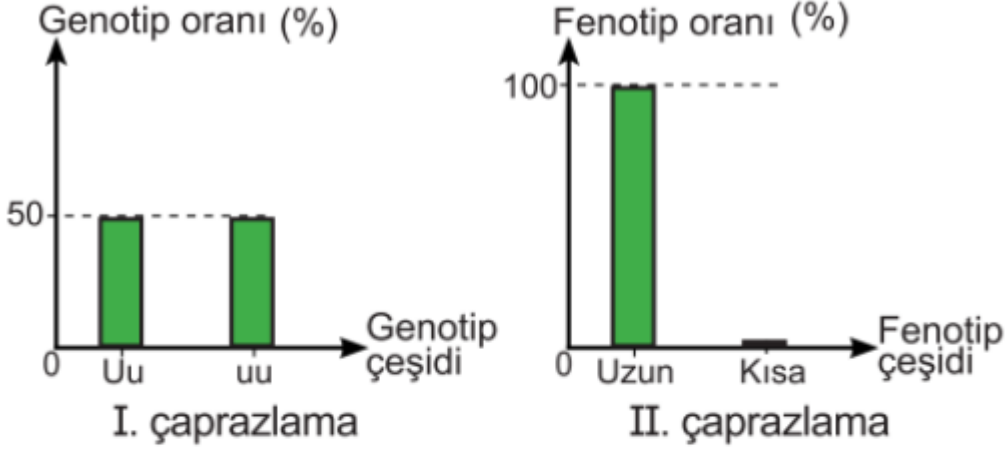
- A)** Verilen örnekler modifikasyondur.Kazanılan özellik kalıtsaldır.Sonraki kuşaklarda etkisini göstermez.
- B)** Verilen örnekler mutasyondur.Kazanılan özellik kalıtsaldır.Sonraki kuşaklarda etkisini gösterir.
- C)** Verilen örnekler modifikasyondur.Kazanılan özellik kalıtsal değildir.Sonraki kuşaklarda etkisini göstermez
- D)** Verilen örnekler adaptasyondur.Kazanılan özellik kalıtsaldır.Sonraki kuşaklarda etkisini gösterir.

Yalnızca bir şıkkı işaretleyin.

- A
- B
- C
- D

41. Fen Bilimleri 7

Bezelyelerde boy uzunluğuyla ilgili yapılan iki çaprazlamaya ait grafikler aşağıdaki gibidir.



Buna göre çaprazlamalarla ilgili aşağıdakilerden hangisi söylenemez?

- A) I. çaprazlamada, çaprazlanan bezelyelerden birinin genotipi kesinlikle melezdir.
- B) II. çaprazlamada, çaprazlanan bezelyelerin her ikisi de kesinlikle uzun boyludur.
- C) I. çaprazlamada, çaprazlanan bezelyelerin her ikisi de çekinik gen taşımaktadır.
- D) II. çaprazlamada, çaprazlanan bezelyelerin her ikisinde birden çekinik gen olamaz.

Yalnızca bir şıkkı işaretleyin.

- A
- B
- C
- D

42. Fen Bilimleri 8

Tabloda bazı canlıların vücut hücrelerindeki kromozom sayıları verilmiştir.

TÜR ADI	KROMOZOM SAYISI
İnsan	46
Köpek	78
Güvercin	16
Patates	48
Eğrelti otu	500
Moli balığı	46
Sirke sineği	8

Buna göre canlıların kromozom sayılarıyla ilgili,

- I. Kromozom sayısı arttıkça vücut büyüklüğü de artar.
- II. Kromozom sayısının fazlalığı canlının gelişmişlik düzeyini göstermez.
- III. Kromozom sayısının aynı olması canlıların benzer oldukları anlamına gelmez.

çıkarımlarından hangileri doğrudur?

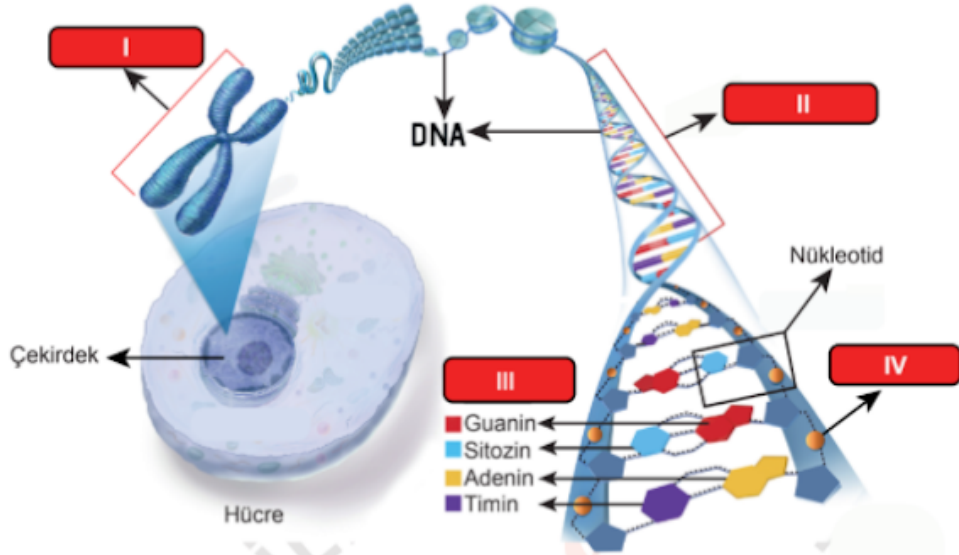
- A) I ve II B) I ve III
C) II ve III D) I, II ve III

Yalnızca bir şıkkı işaretleyin.

- A
 B
 C
 D

43. Fen Bilimleri 9

Aşağıda hücre çekirdeğinde bulunan kalıtsal materyaller arasındaki ilişki gösterilmiştir.



Buna göre numaralanmış yapılarla ilgili aşağıdakilerden hangisi yanlıştır?

- A) I, farklı canlı türlerinde farklı sayılarda bulunabilir.
 B) II, belirli bir karakterden sorumlu bir geni ifade ediyor olabilir.
 C) III ile gösterilen moleküller, tüm canlıların DNA'larında da bulunur.
 D) IV ile gösterilen molekül, tüm canlı türlerinde farklılık gösterir.

Yalnızca bir şıkkı işaretleyin.

- A
 B
 C
 D

44. Fen Bilimleri 10

Birçok hayvan, buldukları ortamın zeminine fark edilemeyecek kadar iyi uyum sağlar. Bu durum kamufraj olarak adlandırılır. Sıklıkla onların renkleri tam olarak buldukları zeminin rengine benzer. Bazı hayvanlar ise derilerindeki pigmentlerin (renk maddelerinin) dağılımlarını değiştirerek girdiği ortamın zeminine çok benzer desenlenmeler bile gösterebilir. Böylece kamufraj, hayvanların avcılarında saklanmasına yardımcı da olur.

Bu açıklamalara göre aşağıdakilerden hangisi kamuflaje örnek verilebilir?

- A) Zehirli arıların etrafında uçan bazı sineklerin de bu arılar gibi sarı-siyah şeritlere sahip olması
- B) Bazı böceklerin saldırıya uğradığında vücudundaki değişik sıvıları ortama salması
- C) Bazı kelebeklerin kanat desenlerine benzer yapraklar üzerinde bulunması
- D) Zehirli ok kurbağasının parlak renkleri nedeniyle düşmanları tarafından kolayca tanınıp av olmaktan kurtulması

Yalnızca bir şıkkı işaretleyin.

- A
- B
- C
- D

DİN KÜLTÜRÜ VE AHLAK BİLGİSİ

Bu bölümde 5 soru bulunmaktadır.

45. DKAB 1

Hız. Şuayb'in kavmi Medyenlileri uyarısına Kur'an'da şöyle değinilmektedir:

"Ey kavmim! Allah'a kulluk edin. Sizin için O'ndan başka hiçbir ilâh yoktur. Rabbinizden size açık bir delil gelmiştir. Artık ölçüyü ve tartıyı tam yapın. İnsanların mallarını eksiltmeyin. Düzene sokulduktan sonra yeryüzünde bozgunculuk etmeyin. İnananlar iseniz bunlar sizin için hayırlıdır."

(A'râf suresi, 85. ayet)

Aşağıdakilerden hangisi Hız. Şuayb'in bu ayet ile Medyenlileri sakındırdığı unsurlardan biri değildir?

- A) Şirk koşmak
- B) İsrâf yapmak
- C) Fitne çıkarmak
- D) Ticarete hile yapmak

Yalnızca bir şıkkı işaretleyin.

- A
- B
- C
- D

46. DKAB 2

Elazığ depreminden sonra şehirdeki depremzedelere Türkiye'nin farklı yerlerinden yardımlar gitmeye başlamıştı. Tuana'da bu yardım kampanyasına yeni aldığı ayakkabısıyla destek vermek istemişti. Annesi: "Kızım sen değil miydin bu ayakkabı için okul harçlıklarını biriktiren? Henüz bir defa bile kullanmadın. Kutusundan bile çıkartmadın." Tuana: "Doğru söylüyorsun anneciğim; fakat kış günü bu ayakkabılara benden daha fazla ihtiyacı olanlar olduğunu düşünüyorum. Onun için de ayakkabıyı güzel bir hediye paketinin içine koyarak ihtiyaç sahiplerine ulaştırmak istiyorum."

Tuana'nın paylaşma ve yardımlaşmada aşağıdaki ayetlerden hangisine göre hareket ettiği söylenebilir?

- A) "Güzel bir söz ve bağışlama, peşinden gönül kırma gelen bir sadakadan daha hayırlıdır. Allah, her bakımdan sınırsız zengindir, halimdir (hemen cezalandırmaz, mühlet verir)." (Bakara suresi, 263. ayet)
- B) "Ey iman edenler! Allah'a ve ahiret gününe inanmadığı hâlde malını gösteriş için harcayan kimse gibi, başa kakmak ve incitmek suretiyle, yaptığınız hayırlarınızı boşa çıkarmayın..." (Bakara suresi, 264. ayet)
- C) "Sevdiğiniz şeylerden Allah yolunda harcamadıkça, gerçek iyiliğe asla erişemezsiniz. Her ne harcarsanız Allah onu hakkıyla bilir." (Âl-i İmrân suresi, 92. ayet)
- D) "Onları, ticaret de alışveriş de Allah'ı anmaktan, namaz kılmaktan ve zekât vermekten alıkoymaz. Onlar, kalplerin ve gözlerin allak bullak olduğu bir günden korkarlar." (Nûr suresi, 37. ayet)

Yalnızca bir şıkkı işaretleyin.

- A
- B
- C
- D

47. DKAB 3

Tabloda Kader ve Kaza konusu ile ilgili örnekler verilmiştir.

	KADER	KAZA
I.	Isınan hava yükselir.	Havadaki nem %100'e ulaştınca yağmur yağar.
II.	Su 100 derecede kaynar.	Bugün Erzurum'un havası oldukça soğuk.
III.	Deprem durduğunda dışarı çıktık.	Ali ile Ayşe pazar günü evlendiler.
IV.	Her şey bir ölçüye göre yaratılmıştır.	Depremde yan binamız hasar gördü.

Buna göre hangi numaralı örneklerde hata yapılmıştır?

A) Yalnız I

B) I ve III

C) II ve IV

D) I, II ve IV

Yalnızca bir şıkkı işaretleyin.

A

B

C

D

48. DKAB 4

• “Düşünmediler mi ki, gökleri ve yeri yaratmış olan Allah, kendilerinin benzerlerini de yeniden yaratmaya kadirdir!..”

(İsra suresi, 99. ayet)

• “Dinde zorlama yoktur. Artık doğrulukla eğrilik birbirinden ayrılmıştır.”

(Bakara suresi, 256. ayet)

• “Evrende var olan her canlı yok olup gidecektir. Ancak yüce ve cömert olan Rabbimizin varlığı sonsuza dek kalacaktır.”

(Rahmân suresi, 26-27. ayet)

Verilen ayetler aşağıdaki kavramlarla eşleştirilirse hangisi dışarıdakalır?

A) İrade B) Akıl C) Ecel D) Tevekkül

Yalnızca bir şıkkı işaretleyin.

A

B

C

D

49. DKAB 5

İnfak, Allah'ın rızasını kazanmak için insanın kendisine verilen malların şükrünün bir gereği olarak Allah'ın emrettiği yerlere harcama yapması, başta bulunmasına denir. İnfak, farz olan zekâtı ve gönüllü olarak yapılan her çeşit hayrı içerir aynı zamanda müslüman kimseye fedakârlık yapma bilinci kazandırır.

Buna göre aşağıdakilerden hangisi infak olarak değerlendirilemez?

A) Komşuluk haklarına riayet etmek.

B) Afrika'da su kuyusu açtırmak.

C) Ramazan'da iftar yemeği vermek.

D) Öğrencilere burs vermek.

Yalnızca bir şıkkı işaretleyin.

A

B

C

D