

## 8. Türkçe 1

1793'te Londra British Museum'a Çin'den gülibrişim ağacı tohumları getiriliyor. Yıllarca sergileniyor; hiçbir kıpırdama, hareket yok... 1940 yılında Londra bombalanıyor ve müzenin botanik bölümüne, tam da bu tohumların bulunduğu kabine bir parça isabet ediyor. Kabin paramparça... Haftalar sonra savaş alanından fidanlar yükseliyor. 150 yıldır uyuyan gülibrişim tohumları yeşermiş... Hayattaysan umut her zaman var.

Bu parçadaki altı çizili sözcüklerin sözlük anlamları aşağıda karışık olarak verilmiştir.

**Sözlük Anlamı**

- Piyango vb. şans oyunlarında kazanma, çıkma, vurma.
- Sanat ve bilim eserlerinin veya sanat ve bilime yarayan nesnelerin saklandığı, halka gösterilmek için sergilendiği yer veya yapı.
- Küçük, özel bölme.
- Olması beklenen veya olacağı düşünülen şey.

**Numaralanmış sözcüklerden hangisinin anlamı yanlış verilmiştir?**

- A) I.                      B) II.                      C) III.                      D) IV.

*Yalnızca bir şıkkı işaretleyin.*

- A
- B
- C



## 9. Türkçe 2

Aşağıda bazı toplarla ilgili bilgiler verilmiştir.

### FUTBOL TOPU

Deriden üretilir. Meşin yuvarlak da denir. Çevresi 68-70 cm'dir. Topun içindeki hava basıncı santimetrekareye 600-1100 gram arasındadır.

### VOLEYBOL TOPU

İçinde lastik veya benzeri madde vardır. Dış kısmında ise deri kullanılır. Çevresi 65-67 cm'dir. 260-280 gram arası bir ağırlıktadır.

### HENTBOL TOPU

Deri veya yapay malzemeden yapılır. Dış kısmı kaygan ve parlak olmamalıdır. Çevresi ve ağırlığı, oynanacağı kategoriye göre değişir. Büyüklüklerine göre 3 farklı hentbol topu vardır.

### BOVLİNG TOPU

Kauçuk, reçine, plastik veya hepsinin karışımından yapılır. Üzerinde parmaklar için 3 delik vardır. Ağırlıkları 2,7 ile 7,2 kg arasında değişir.

**Bu toplardan hangisinin anlatıldığı metinde "Ağırlık, yapıldığı malzeme, çevre ölçüsü" özelliklerinin üçü hakkında da bilgi vardır?**

- A) Futbol topu
- B) Voleybol topu
- C) Hentbol topu
- D) Bowling topu

*Yalnızca bir şıkkı işaretleyin.*

- A
- B
- C
- D

## 10. Türkçe 3

Bütün iyi kitapların sonunda  
Bütün gündüzlerin,  
Bütün gecelerin sonunda  
Meltemi senden esen  
Soluğu sende olan,  
Yeni bir başlangıç vardır...

**Bu şiirin ana duygusu aşağıdakilerden hangisidir?**

A) Ümit B) Ayrılık C) Bencillik D) Sevgi

*Yalnızca bir şıkkı işaretleyin.*

- A  
 B  
 C  
 D

## 11. Türkçe 4

Fiilimsiler de fiiller gibi olumsuzluk eki alabilir.

**Aşağıdaki cümlelerin hangisinde olumsuzluk eki alan bir fiilimsi vardır?**

- A) Mahallenin muhtarının tanımadığı kimse yoktu.  
B) Trenden inince beni aramayı unutma.  
C) Bu kazadan çıkarılacak çok ders var.  
D) Bu konuları artık bana anlatma, diyordu.

*Yalnızca bir şıkkı işaretleyin.*

- A  
 B  
 C  
 D

## 12. Türkçe 5

Yer-yön belirten "doğu, batı" sözcükleri;

- Özel isimlerden önce gelirse büyük, sonra gelirse küçük,
- Tek başına kullanıldığında küçük,
- Medeniyet, kültür, politika anlamlarında kullanılırsa büyük harfle yazılır.

**Bu açıklamaya göre aşağıdaki cümlelerin hangisinde yazım yanlışı bulunmaktadır?**

- A) Anadolu'nun doğusu kışın soğuk havanın etkisi altına girmiştir.
- B) Batı Karadeniz, sanayinin gelişmesiyle ekonomik kalkınmayı gerçekleştirmiştir.
- C) Ülkemiz, Doğu'nun geleneklerini kültürümüzle birleştirmiştir.
- D) Yurdumuzun Batı kısımlarında yağış miktarı azalmıştır.

*Yalnızca bir şıkkı işaretleyin.*

A

B

C

D

## 13. Türkçe 6

Tramvay gelmişti. Tam Yedeksubay Mektebinin önünde birtakım adamlar gidiyordu. Fakat camlar o kadar buz tutmuştu ki göremeyince tramvaydan atladım. Belki sekene yakın insandı. Aralarında çok gençleri bile vardı. Büyük adımlarla gayet ciddi yüzlerle yürüyorlardı, önde gidenlerin hâlinde daha büyük bir vaziyet vardı. Daha ciddi idiler. Tek tük geçenler durup onlara bakıyordu. Fakat onlar hiç kimseye bakmıyordu.

**Bu parçada aşağıdaki hikâye unsurlarından hangisi yoktur?**

- A) Yer
- B) Zaman
- C) Olay
- D) Kişi

*Yalnızca bir şıkkı işaretleyin.*

- A
- B
- C
- D

## 14. Türkçe 7

Birçok insan gibi kendim nasılsam başkasını ona göre değerlendirme hatasına düşmem. Buna aykırı düşen şeylere kolayca inanırım. Herkes gibi kendimi bağlı hissettiğim bir biçime başkalarını zorlamam. Bambaşka yaşama biçimleri olabileceğine inanır, bunu akıl edebilirim. Çoklarının tersine de aramızdaki ayrılığı benzerlikten daha kolay kabul ederim. Başkasının benim davranışlarımdan ve ilkelerimden dilediği kadar uzak kalmasını hoş karşılarım. Herkesi dümdüz ve bağımsız olarak kendi kişiliğiyle görür, kendi içinde değerlendiririm.

**Bu parçadaki gibi düşünen biri için aşağıdakilerden hangisi söylenebilir?**

- A) İnsanları kişilik özelliklerine göre gruplamaktadır.
- B) Başka insanları kendisinden daha çok düşünmektedir.
- C) Farklı özelliklere sahip insanları olduğu gibi kabul etmektedir.
- D) İnsanları karşılıksız sevmek gerektiğini düşünmektedir.

*Yalnızca bir şıkkı işaretleyin.*

- A
- B
- C
- D

## 15. Türkçe 8

Sanma şahım / herkesi sen / sadıkane / yâr olur

Herkesi sen / dost mu sandın / belki ol / ağyar olur

Sadıkane / belki ol / bu âlemde / dildar olur

----

Bu dörtlükte her dizenin eğik çizgiyle (/) gösterilen ilk bölümleri yukarıdan aşağıya okunduğunda birinci dizeyi, ikinci bölümleri ikinci dizeyi, üçüncü bölümleri ise üçüncü dizeyi oluşturmaktadır.

**Buna göre dörtlüğün son dizesi aşağıdakilerin hangisinde doğru verilmiştir?**

- A) Ağyar olur / dildar olur / yâr olur / serdar olur  
B) Herkesi sen / bu âlemde / sadıkane / dost mu sandın  
C) Yâr olur / ağyar olur / dildar olur / serdar olur  
D) Sanma şahım / herkesi sen / sadıkane / dost mu sandın

*Yalnızca bir şıkkı işaretleyin.*

- A  
 B  
 C  
 D

## 16. Türkçe 9

Aşağıda bazı söz sanatlarının açıklaması verilmiştir:

- Mübalağa (abartma); bir niteliği, olduğundan çok üstün veya aşağı gösterme sanatıdır.
- Tezat (karşıtlık), birbirine zıt kavram veya durumların bir arada kullanılmasıyla oluşan sanattır.
- İntak (konuşturma), insan dışındaki bir varlığın konuşturulmasıyla oluşan sanattır.

**Aşağıdakilerin hangisinde, açıklaması verilen sanatlardan herhangi birine yer verilmemiştir?**

- A) Gözümde bir damla su, deniz olup taşıyor  
Çöllerde kalmış gibi yanıyor, yanıyorum
- B) Özlediğin hayatı buldun mu bilmem  
Gözlerinde hâlâ hüznün var gibi
- C) Nazlı yârdan kem haberler geliyor  
Dostlarım ağlıyor, düşman gülüyor
- D) Küçük bir çeşmeyim yurdumun  
Unutulmuş bir dağında



*Yalnızca bir şıkkı işaretleyin.*

- A
- B
- C
- D



## 17. Türkçe 10

Deyimler sözlerimizin anlaşılmasını kolaylaştıran, anlatımı renklendiren ve dakikalarca konuşarak ifade edemeyeceğimiz fikirleri bir çırpıda dile getiren kalıplardır. Bu kalıplar dilimize yerleşmiştir ve anlamları hemen herkes tarafından bilinir. Örneğin kötü niyet ve eylemlerin, sahibine zarar verdiği durumlarda - - - -, küçük bir iyilik yapılmak istenirken büyük zararlar verildiğinde - - - -, bir şeyi bildiği hâlde bilmiyormuş gibi görünen kişileri anlatmak için - - - - deyimini kullanırız.

**Aşağıdakilerden hangisi bu metinde boş bırakılan yerlerden herhangi birine getirilemez?**

- A) çizmeyi aşmak
- B) kaş yapayım derken göz çıkarmak
- C) renk vermemek
- D) kazdığı kuyuya düşmek

*Yalnızca bir şıkkı işaretleyin.*

A

B

C

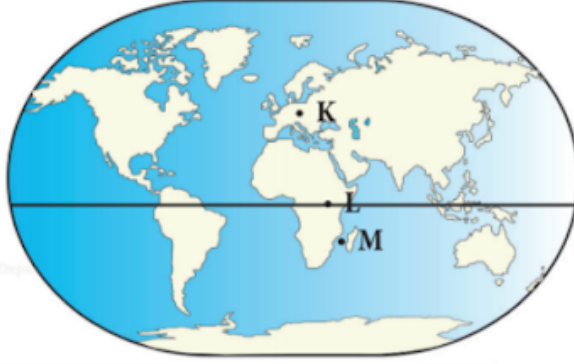
D

Fen Bilimleri

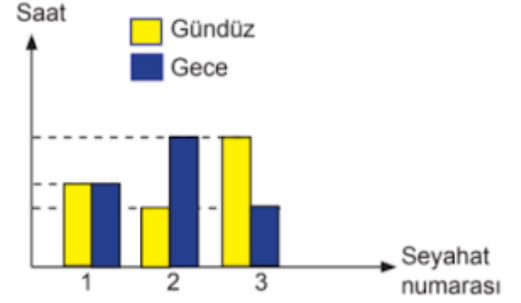
Bu bölümde 10 soru bulunmaktadır.

18.

Bir gezginin nisan ayı içerisinde gerçekleştirdiği seyahatlar sırasında kaldığı ülkeler ve bu ülkelerdeki gece ve gündüz süreleri aşağıda verilmiştir.



Şekil 1



Grafığe göre gezgin 1, 2 ve 3 numaralı seyahatleri hangi ülkelere yapmıştır?

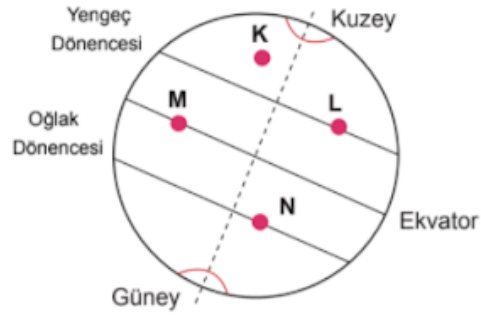
- 1   2   3  
 A) L   K   M  
 B) L   M   K  
 C) K   M   L  
 D) K   L   M

*Yalnızca bir şıkkı işaretleyin.*

- A  
 B  
 C  
 D

19.

Aşağıda Dünya üzerinde K, L, M ve N noktaları verilmiştir.



Buna göre konumları verilen K, L, M ve N noktalarından hangilerine Güneş ışınları hiçbir zaman dik açıyla düşmez?

A) Yalnız K

B) K ve L

C) M ve N

D) L, M ve N

*Yalnızca bir şıkkı işaretleyin.*

 A

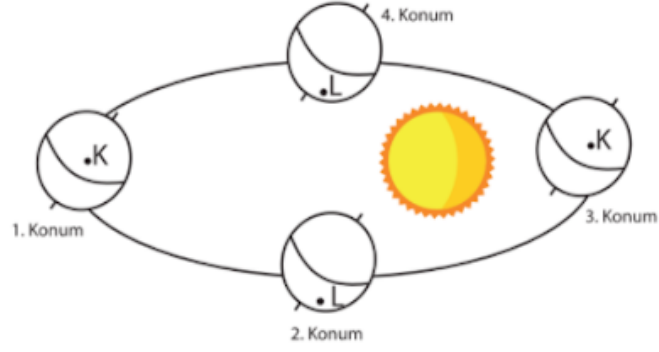
 B

 C

 D

20.

K ve L noktalarında yaşanan durumlarla ilgili aşağıdaki yorumlar yapılmaktadır.



- I. Dünya 1. konumdayken K bölgesinde en uzun gündüz yaşanır.
- II. Dünya 2. konumdayken L bölgesinde sonbahar mevsimi yaşanmaya başlar.
- III. Dünya 3. konumdayken K bölgesinde Güneş ışınları öğle vakti dike yakın açılarla düşer.
- IV. Dünya 4. Konumdayken L bölgesinde gece ve gündüz süresi eşittir.

**Buna göre yukarıda yer alan yorumlardan hangileri doğrudur?**

- A) Yalnız I
- B) I ve II
- C) I ve IV
- D) II ve III

*Yalnızca bir şıkkı işaretleyin.*

- A
- B
- C
- D

21.

Dünya'nın Güneş etrafındaki dolanımı ve eksen eğikliği sonucu 21 Aralık, 21 Mart, 21 Haziran ve 23 Eylül gibi mevsim geçişlerinin yaşandığı tarihler oluşur.

Aşağıda bazı olaylar ve bu olayların yaşandığı tarihler karışık olarak verilmiştir.

1-Bu tarihten itibaren Kuzey yarımkürede yaz mevsimi yaşanmaya başlar.	a- 21 Aralık
2-Bu tarihten itibaren Güney yarımkürede sonbahar mevsimi, Kuzey yarımkürede ise ilkbahar mevsimi yaşanmaya başlar.	b- 21 Mart
3-Bu tarihten itibaren Kuzey yarımkürede sonbahar mevsimi, Güney yarımkürede ise ilkbahar mevsimi yaşanmaya başlar.	c- 21 Haziran
4-Bu tarihte Güney yarımküre en kısa geceyi, Kuzey yarımküre ise en uzun geceyi yaşar.	d- 23 Eylül

Buna göre verilen olaylar ve tarihlerin doğru eşleştirilmesi hangi seçenekte verilmiştir?

- |        |        |        |        |
|--------|--------|--------|--------|
| A) 1-a | B) 1-c | C) 1-c | D) 1-a |
| 2-d    | 2-b    | 2-d    | 2-b    |
| 3-c    | 3-d    | 3-b    | 3-d    |
| 4-b    | 4-a    | 4-a    | 4-c    |

*Yalnızca bir şıkkı işaretleyin.*


A

B

C

D

22.



Bir helikopter pilotunun A, B ve C konumlarında görebileceği yağış çeşitleri neler olabilir?

<u>A</u>	<u>B</u>	<u>C</u>
A) Kıracağı, Dolu	Sis	Çiy, Kar, Yağmur
B) Kar, Sis	Çiy	Kıracağı, Yağmur, Dolu
C) Kıracağı, Çiy	Sis	Dolu, Kar, Yağmur
D) Dolu, Kar	Yağmur	Sis, Çiy, Kıracağı

Yalnızca bir şıkkı işaretleyin.

- A
- B
- C
- D

23.

Çağımızın en önemli sorunlarından biri küresel ısınmadır. Dünya üzerindeki canlı yaşamını tehdit eden bu sorunun kaynağının atmosfere aşırı miktarda salınan sera gazları olduğu biliniyor. Bu sorunun çözülebilmesi için gerekli adımların atılmasının yanı sıra sorunun gelecekte nasıl bir hâl alabileceğini tahmin edebilmek de önemli. Bu amaçla Dünya'nın dört bir tarafından pek çok araştırma grubu iklim tahminleri üzerine çalışmalar yapıyor.

**Verilen metinden hareketle çıkarımlardan hangisine ulaşamaz?**

- A) Küresel ısınma çağımızın en önemli sorunlarından dandır.
- B) Küresel ısınma sorununun kaynağı sera gazlarıdır.
- C) Sera gazları su buharı, metan ve karbondioksittir.
- D) Küresel ısınma sorununu çözmek için çalışılmaktadır.

*Yalnızca bir şıkkı işaretleyin.*

- A
- B
- C
- D

24.

İklim ve hava olayları, birbiri ile ilişkili ancak farkları olan kavramlardır. İklim, geniş bir bölgede uzun yıllar devam eden atmosfer olaylarının ortalamasıdır. Hava olayları ise dar bir alanda ve kısa süre içinde görülen atmosfer olaylarıdır.

Ahmet, beş gün boyunca her sabah aynı saatte hava olaylarını gözlemlemek için gökyüzünü incelemiş ve termometreyi balkondaki gölge bir yere asarak hava sıcaklığını ölçmüştür. Yaptığı ölçüm ve gözlemleri sonucunda oluşturduğu tablo aşağıdaki gibidir:

Ahmet'in Hava Gözlem Tablosu			
Günler	Gökyüzü	Sıcaklık (°C)	Rüzgâr şiddeti
Pazartesi		11	Hafif
Salı		10	Orta
Çarşamba		13	Orta
Perşembe		11	Şiddetli
Cuma		10	Şiddetli

Ahmet'in oluşturduğu hava gözlem tablosu ile ilgili olarak aşağıdakilerden hangisi söylenebilir?

- A) Bu tablodaki hava durumu yalnızca yaz mevsiminde gözlenir.
- B) Bulunulan bölgenin hava sıcaklığı gün boyunca sürekli ölçülerek kaydedilmiştir.
- C) Hava sıcaklığının aynı olduğu günlerde farklı hava olayları yaşanmıştır.
- D) Geniş alanda yıl boyu benzerlik gösteren atmosfer olaylarının ortalaması alınmıştır.

*Yalnızca bir şıkkı işaretleyin.*

- A
- B
- C
- D



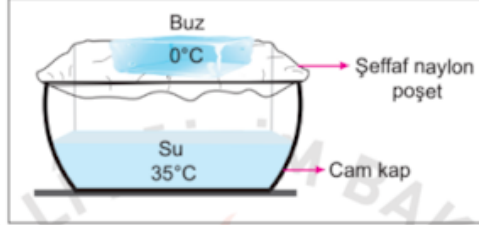
25.

**Dolu** : Havanın içindeki su damlacıklarının çok soğuk hava ile karşılaşarak aniden donması sonucu buz parçaları hâlinde yeryüzüne ulaşması.

**Kırağı** : Soğuk günlerin gecelerinde havadaki su buharının yeryüzündeki toprak ve bitki gibi yüzeyler üzerinde kristaller oluşturması.

**Yağmur** : Su buharının yükseklere çıktıkça soğuk hava ile karşılaşarak yoğunlaşarak su damlaları hâlinde yere düşmesi.

Aşağıda 25°C sınıf ortamındaki deney düzeneğinde içerisinde bir miktar su bulunan cam kabin üzeri şeffaf naylon poşet ile kapatılmıştır. Poşet üzerine sıcaklığı 0°C olan buz parçası yerleştirilmiştir.



Bir süre sonra cam kap içerisinde yukarıda açıklamaları verilen hava olaylarından hangileri gözlenir?

A) Yalnız yağmur

B) Yalnız dolu

C) Dolu ve kırağı

D) Kırağı ve yağmur

*Yalnızca bir şıkkı işaretleyin.*

A

B

C

D

26.

İklim, geniş bir alanda uzun süre gözlenen sıcaklık, nem, hava basıncı, rüzgâr ve yağış gibi hava olaylarının ortalamasıdır. Hava durumu ise, daha dar bir alanda, kısa süre içinde görülen hava olaylarıdır.

Fen Bilimleri dersinde iklim ve hava durumu kavramlarını pekiştirmek isteyen öğretmen, öğrencilerinden iklim ve hava durumu örneklerini içeren birer kart hazırlamalarını istemiştir. Bir öğrencinin hazırladığı kartlar aşağıdaki gibidir:

HAVA DURUMU	İKLİM
I. Bolu'da sabah saatlerinde oluşan sis, trafiği olumsuz etkiledi. II. Ağrı'da bir haftadır devam eden kar yağışı nedeniyle bazı köy yolları ulaşımına kapandı. III. Antalya'nın yaz mevsimi sıcaklık ortalaması 20 °C'un üstündedir.	■ Erzurum'da kış mevsimi soğuk ve kar yağışlı geçer. ▲ Mersin'de yarın öğleden sonra yağmur bekleniyor. ● Rize'de her mevsim genellikle yağışlıdır.

Kartlardaki bilgilerin tamamen doğru olması için hangi ifadelerin birbiriyle yer değiştirmesi gerekir?

- A) I – ■                      B) I – ●  
 C) II – ●                      D) III – ▲

*Yalnızca bir şıkkı işaretleyin.*

- A  
 B  
 C  
 D

27.

Aşağıdaki tabloda iki şehrin aynı yıl içinde hesaplanan aylık ortalama sıcaklık değerleri °C' cinsinden verilmiştir.

Şehirler	Aylar											
	Ocak	Şubat	Mart	Nisan	Mayıs	Haziran	Temmuz	Ağustos	Eylül	Ekim	Kasım	Aralık
I	8	13	18	20	23	25	27	22	15	10	6	3
II	-15	-12	-6	3	10	17	23	18	12	5	-8	-12

Buna göre bu şehirlerle ilgili aşağıdakilerden hangisine ulaşamaz?

- A) Yer aldıkları yarım küreler  
 B) Yıllık ortalama sıcaklık değerleri  
 C) Günlük ortalama sıcaklık değerleri  
 D) Yaz mevsiminin yaşandığı aylar



*Yalnızca bir şıkkı işaretleyin.*

- A  
 B  
 C  
 D

DİN KÜLTÜRÜ VE AHLAK BİLGİSİ

28.

- “Mallarını Allah yolunda harcaııp da arkasından başa kakmayan, fakirlerin gönlünü kırmayan kimselerin Allah katında ödülleri vardır...” (Bakara suresi, 262. ayet)
- “İsteyeni sakın azarlama!” ( Duha|suresi, 10. ayet)

**Verilen ayet meallerinde zekât ibadetinin hangi yönü vurgulanmaktadır?**

A) Hangi mallardan verileceđi  
C) Ne zaman verileceđi

B) Hangi oranda verileceđi  
D) Nasıl verileceđi

*Yalnızca bir şıkkı işaretleyin.*

A

B

C

D

29.

İslam dininde yardımlaşma ve paylaşma çok önemlidir. Bu sebeptendir ki yardımlaşmayı ve paylaşmayı içeren zekât, sadaka, kurban ve fitir sadakası gibi pek çok ibadete yer verilmiştir. Bu ibadetlerin uygulama esasları belirlenirken yapılan yardım amacına ulaşsın diye verilen malın niteliğinin nasıl olması gerektiği de açıklanmıştır. Örneğin.....Ayetinde bu türden bir açıklama yapılmıştır.

**Metinde boş bırakılan yere aşağıdaki ayetlerden hangisi yazılabilir?**

A) Ey iman edenler! Kazandıklarınızın iyilerinden ve rızık olarak yerden size çıkardıklarımızdan hayra harcayın. Size verilse gözünüzü yummadan alamayacağınız kötü malı, hayır diye vermeye kalkışmayın. Biliniz ki Allah zengindir, övgüye layıktır. (Bakara Suresi, 267. Ayet)

B) Mallarını Allah yolunda harcayan, sonra da harcadıklarının peşinden (bunları) başa kakmayan ve gönül incitmeyenlerin, Rab'leri|katında mükafatları vardır. Onlar için korku yoktur. Onlar üzülmeyeceklerdir de. (Bakara Suresi, 262. Ayet)

C) Sadakaları açıktan verirsiniz ne güzel! Fakat onları gizleyerek fakirlere verirsiniz bu, sizin için daha hayırlıdır ve günahlarınızdan bir kısmına da kefarettir. Allah yaptıklarınızdan hakkıyla haberdardır. (Bakara Suresi 271. Ayet)

D) Mallarını Allah yolunda harcayanların durumu, her başağında yüz dane olmak üzere, yedi başak veren danenin durumu gibidir. Allah dilediğine kat kat verir. Allah'ın (lütü) genişlidir. (O) bilendir." (Bakara Suresi 261. ayet)

*Yalnızca bir şıkkı işaretleyin.*

A

B

C

D

30.

Hız. Peygamber, bir eve misafir olur. Evin hanımı, çocuđuna "Gelirsen sana bir Őey vereceđim." diye seslenir. Bunun ¼zerine Hız. Peygamber anneye "Çocuđa ne vereceksin?" diye sorar. O da hurma vereceđini s¼yler. Bunun ¼zerine Allah Resul¼, "Eđer aldatıp ona bir Őey vermeseysin sana bir yalan g¼nahı yazılmıř olurdu." buyurur.

**Bu olayda Hız. Peygamber'in verdiđi mesaj ařađıdakilerden hangisidir?**

- A) Anneler çocuklarına merhametli olmalıdır.
- B) Çocuklar koruyup g¼zetilmelidir.
- C) Verilen s¼z yerine getirilmelidir.
- D) Bařarı ¼d¼llendirilmelidir.

*Yalnızca bir řıkkı iřaretleyin.*

- A
- B
- C
- D

31.

- "Demek sen, bu s¼ze (Kur'an'a) inanmazlarsa, arkalarından ¼z¼lerek ¼detâ kendini t¼keteceksin!"  
(Kehf suresi, 6. ayet)
- "(Ey Muhammed!) M¼min olmuyorlar diye neredeyse kendini yiyip bitireceksin!"  
(Őu'arâ suresi, 3. ayet)

**Bu ayetlerde Hız. Muhammed'in (sav.) hangi y¼n¼ne dikkat çekilmektedir?**

- A) Dođru yola y¼nlendirme isteđine
- B) İslam'ı tebliđ etmedeki cesaretine
- C) Yařanılan sıkıntılı durumlara sabretmesine
- D) Őahsına yapılan kaba davranıřları hoř g¼rmesine

*Yalnızca bir řıkkı iřaretleyin.*

- A
- B
- C
- D

32.

Kur'an'da iyi-kötü, doğru-yanlış olan söz ve davranışlar açıklanmış, bunların seçimi ise insana bırakılmıştır. Kur'an-ı Kerim'de pek çok ayette insanın tercih özgürlüğü vurgulanmıştır.

**Aşağıdakilerden hangisi bu türden ayetlerden değildir?**

- A) "Gerçekten insan için kendi çalışmasının karşılığından başka bir şey yoktur." (Necm Suresi 39 .ayet)
- B) "Kim doğru yolu seçerse bunu ancak kendi iyiliği için seçmiş olur, kim de doğruluktan saparsa kendi zararına sapmış olur. Hiçbir günahkâr, başkasının günah yükünü üstlenmez..." (İsra Suresi 15. ayet)
- C) "Şüphesiz biz ona doğru yolu gösterdik, ister şükredici olsun ister nankör." (İnsan Suresi 3. ayet)
- D) "Allah, her şahsı, ancak gücünün yettiği ölçüde sorumlu kılar. Herkesin kazandığı hayır kendine, yapacağı şer (kötülük) de kendinedir..." (Bakara suresi, 286. ayet)

*Yalnızca bir şıkkı işaretleyin.*

- A
- B
- C
- D

---

Bu içerik Google tarafından oluşturulmamış veya onaylanmamıştır.

Google Formlar